


?  La boîte à énigmes ★ ★

?  La boîte à énigmes **7**



A- Quelles sont les deux formes géométriques que tu reconnais sur ces boulons ?
B- Il faut 2 boulons pour chaque vis de la balance. Or il y a 15 vis. Combien de boulons va-t-il falloir ?

?  La boîte à énigme **8**



Recette pour 10 biscuits :
 100g de farine
 2 œufs
 +mélange préparé

A- Combien faudra-t-il de farine et d'œufs pour faire 20 biscuits ?
B- Combien faudra-t-il de farine et d'œufs pour faire 15 biscuits ?

?  La boîte à énigmes **9**




A- Quels sont les deux numéros manquant à ces boîtes aux lettres ?
B- Quels sont les numéros des 10 boîtes aux lettres suivantes ?


?  La boîte à énigmes **10**




A- Combien y a-t-il d'œufs au total sur ces deux plateaux identiques ?
B- Si je partage ces œufs entre 5 personnes, combien chaque personne recevra-t-elle d'œufs ?

?  La boîte à énigmes ★ ★ **7**


A: _____
 B: _____

?  La boîte à énigmes ★ ★ **8**

A: _____
 B: _____

?  La boîte à énigmes ★ ★ **9**

A: _____
 B: _____

?  La boîte à énigmes ★ ★ **10**

A: _____
 B: _____