




Calcul

CE2



PRÉNOT :

① Calcule en 2 min chrono !

 $6 \times 5 = \underline{\quad}$
 $3 \times 8 = \underline{\quad}$

$2 \times 4 = \underline{\quad}$
 $7 \times 7 = \underline{\quad}$

$3 \times 6 = \underline{\quad}$
 $5 \times 8 = \underline{\quad}$

$4 \times 4 = \underline{\quad}$
 $6 \times 7 = \underline{\quad}$

$3 \times 5 = \underline{\quad}$
 $7 \times 8 = \underline{\quad}$

$4 \times 7 = \underline{\quad}$
 $9 \times 3 = \underline{\quad}$

② Effectue ces multiplications.

$6 \ 2$
 $\times 3 \ 9$

$7 \ 1$
 $\times 4 \ 6$

$8 \ 4$
 $\times 2 \ 7$

$3 \ 5$
 $\times 6 \ 2$

$9 \ 5$
 $\times 2 \ 4$


$2 \ 7$
 $\times 4 \ 9$

$4 \ 8$
 $\times 5 \ 0$



③ Résous ce problème.

Maïa est passionnée de fleurs !
Elle a déjà confectionné 29
herbiers de 165 fleurs chacun.



Combien de fleurs Maïa a-t-elle fait sécher au
total ?