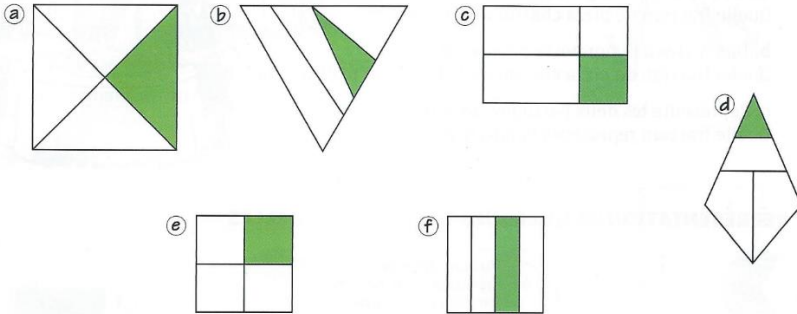


Numération CM1 : Les fractions

Exercices du lundi 18 mai

1 - Les figures sont partagées en 4 parties.

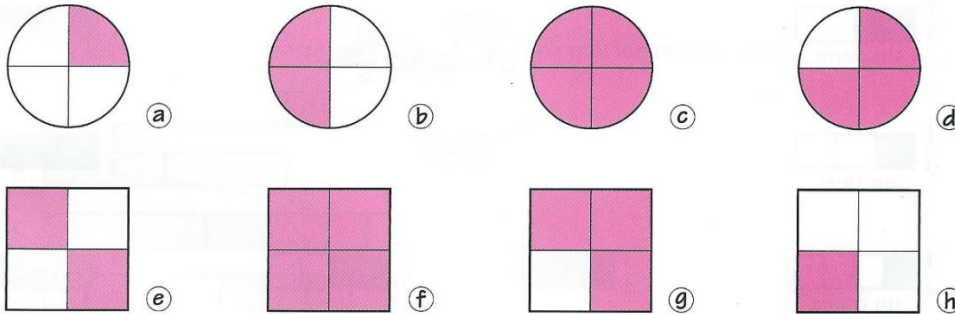
Nomme celles dont la partie coloriée représente $\frac{1}{4}$ de la figure.



Réponses : a, e, f

Les partages ne sont pas égaux dans les figures b, c et d. On ne peut donc pas avoir de fraction.

2- Pour ces figures, écris la fraction qui correspond à la partie coloriée.



A : $\frac{1}{4}$ B : $\frac{2}{4} = \frac{1}{2}$

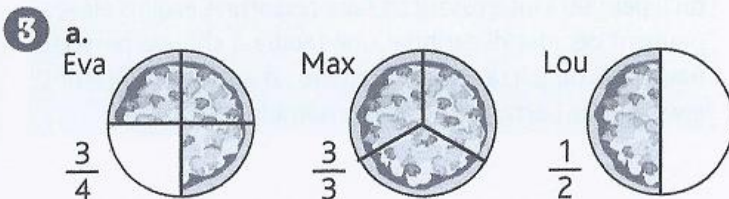
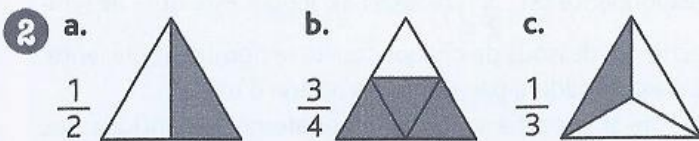
C : $\frac{4}{4} = 1$ D : $\frac{3}{4}$

E : $\frac{2}{4} = \frac{1}{2}$ F : $\frac{4}{4} = 1$

G : $\frac{3}{4}$ H : $\frac{1}{4}$

Exercices du mardi 19 mai

1 a. $\frac{1}{4}$ b. $\frac{1}{2}$ c. $\frac{2}{3}$



b. Max aura une pizza entière, c'est-à-dire 1 pizza.

Pour l'exercice 2, plusieurs solutions de coloriage étaient possibles.

- a. Il fallait colorier 1 partie sur les 2.
- b. Il fallait colorier 3 parties sur les 4.
- c. Il fallait colorier 1 partie sur les 3.

Max prend $\frac{3}{3}$ de pizza, donc 1 pizza entière. Trois tiers cela représente 1 unité.