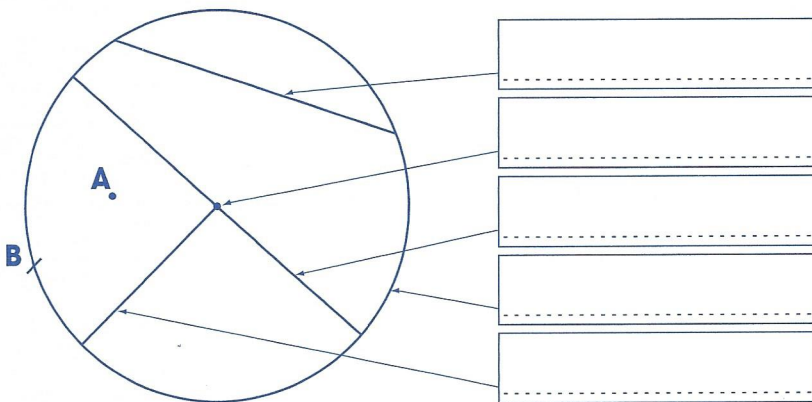


Nom :

Date :

1 Un peu de vocabulaire.

Écris dans la case le mot qui convient.




- Centre
- Diamètre
- Rayon
- Corde
- Cercle

Colorie en jaune le disque.

Complète les phrases suivantes : le point A est dans le
le point B est sur le

2 Voici une figure réalisée avec deux cercles.

Colorie en vert les consignes qui ont permis de la tracer.



Consignes n° 1 :

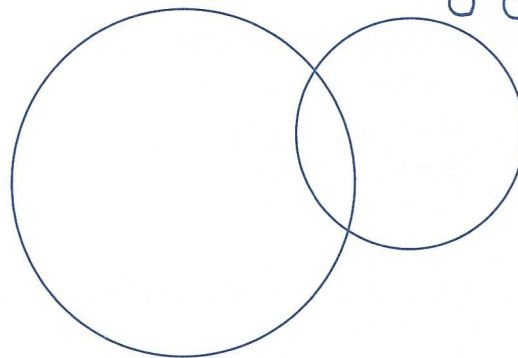
- Trace 2 cercles de même rayon.
- Les 2 cercles se coupent.

Consignes n° 2 :

- Trace 2 cercles de rayon différent.
- Les 2 cercles ne se coupent pas.

Consignes n° 3 :

- Trace 2 cercles de rayon différent.
- Les 2 cercles se coupent.



Construis les deux autres figures et marque le numéro de la consigne dans la case prévue à cet effet.

