


Droites parallèles



Alain Vasseur

MÉMO

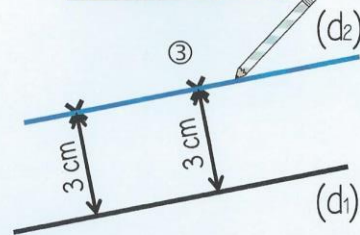
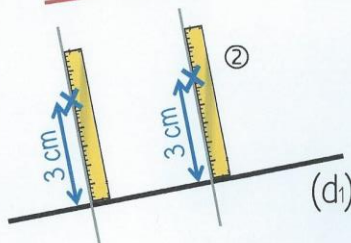
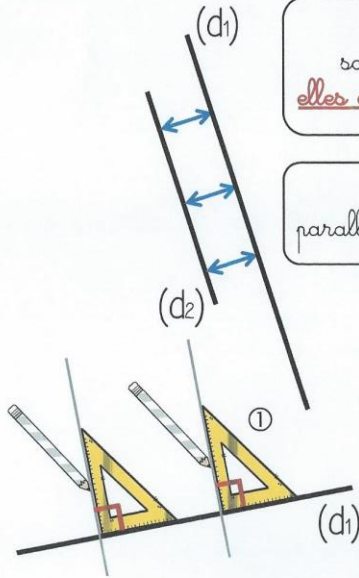
1 Deux droites sont parallèles quand l'écartement entre elles est constant : elles ne se coupent jamais !

MÉMO

2 On peut tracer deux droites parallèles en utilisant une règle et une équerre.



On note : $(d_1) \parallel (d_2)$



Geométrie (CMI)




<https://laclassebleue.fr/>

1 Les couples de droites sont-ils parallèles ?



Oui Non



Oui Non



Oui Non



Oui Non


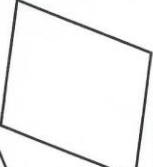
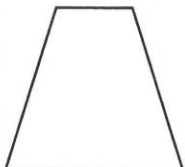



Oui Non



Oui Non

2 Repasse de la même couleur les côtés parallèles entre eux.



3 Dans ton cahier, trace un carré de 6 carreaux de côté, puis repasse en couleur les côtés parallèles entre eux.