


Correction

Je m'entraîne



Date _____

Prénom _____

Exercice n° 1


Effectue ces multiplications.

$$\begin{array}{r} 56 \\ \times 42 \\ \hline 112 \\ 224 \\ \hline 2352 \end{array}$$

$$\begin{array}{r} 34 \\ \times 27 \\ \hline 238 \\ 680 \\ \hline 918 \end{array}$$

$$\begin{array}{r} 63 \\ \times 38 \\ \hline 504 \\ 1890 \\ \hline 2394 \end{array}$$

$$\begin{array}{r} 87 \\ \times 41 \\ \hline 87 \\ 3480 \\ \hline 3567 \end{array}$$

$$\begin{array}{r} 52 \\ \times 26 \\ \hline 312 \\ 1040 \\ \hline 1352 \end{array}$$



Exercice n° 2

Résous ce problème.

Océane a fait 18 longueurs dans une piscine de 25 m de long.

Combien de mètres Océane a-t-elle parcourus ?

Je cherche la distance parcourue par Océane.



Calcul

$$25 \times 18 = 450$$



Phrase-réponse

Océane a parcouru 450 mètres.