

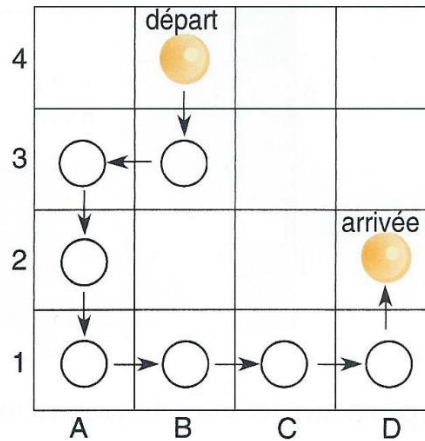
Se déplacer sur un plan – CE2

Observe :

Parti de B 4, le pion est passé par les cases B 3, A 3, A 2, A 1, B 1, C 1, D 1 avant d'arriver en D 2.

Il s'est déplacé successivement de :

- 1 case vers le bas
- 1 case vers la gauche
- 2 cases vers le bas
- 3 cases vers la droite
- 1 case vers le haut

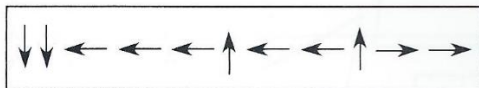


On peut coder ainsi son trajet :

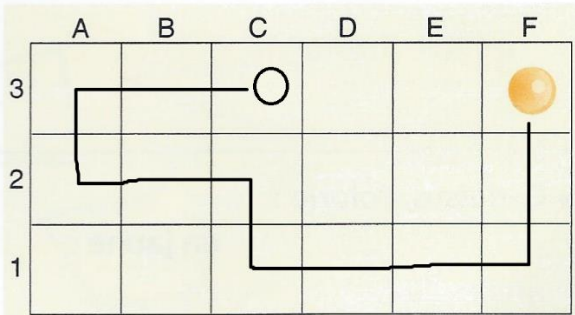
Entraîne-toi

1

Le pion, situé en F3, va se déplacer ainsi :

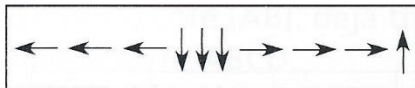


- Dessine-le dans sa case d'arrivée.



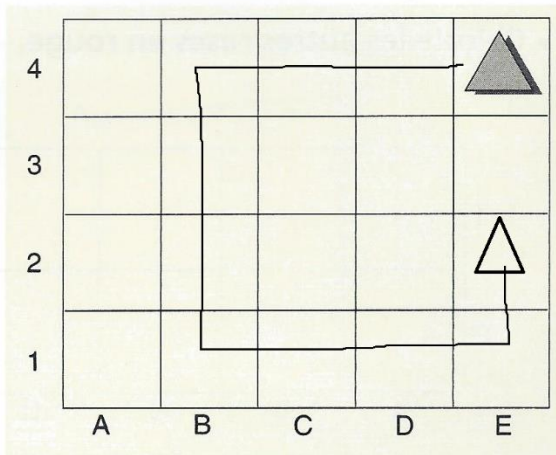
2

Voici le trajet codé de ce triangle :



Sur quelle case arrivera-t-il ?
E 1, **E 2** ou E 3 ?

- Entoure la bonne réponse et dessine le triangle dans la case d'arrivée.



3

• Donne le codage du trajet suivi par le garçon pour se rendre à l'école :

