

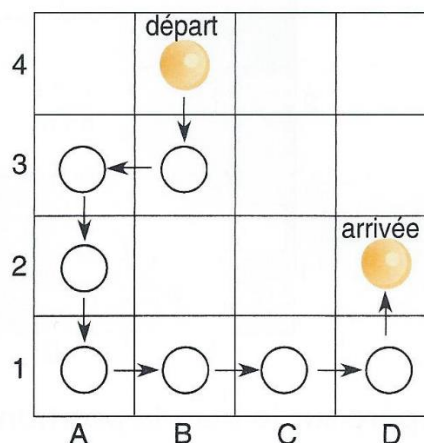
## Se déplacer sur un plan – CE2

### Observe :

Parti de B 4, le pion est passé par les cases B 3, A 3, A 2, A 1, B 1, C 1, D 1 avant d'arriver en D 2.

Il s'est déplacé successivement de :

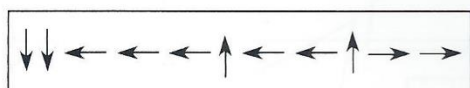
- 1 case vers le bas
- 1 case vers la gauche
- 2 cases vers le bas
- 3 cases vers la droite
- 1 case vers le haut




On peut coder ainsi son trajet : ↓ ← ↓ ↓ → → → ↑

### Entraîne-toi

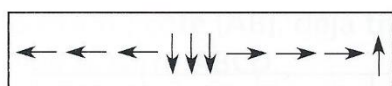
- 1** Le pion, situé en F3, va se déplacer ainsi :



- Dessine-le dans sa case d'arrivée.

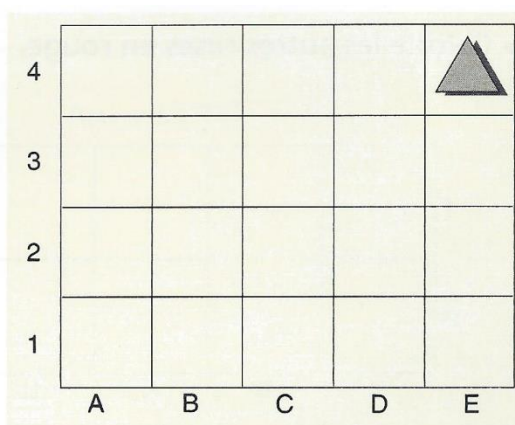


- 2** Voici le trajet codé de ce triangle :



Sur quelle case arrivera-t-il ?  
E 1, E 2 ou E 3 ?

- Entoure la bonne réponse et dessine le triangle dans la case d'arrivée.



- 3** • Donne le codage du trajet suivi par le garçon pour se rendre à l'école :

