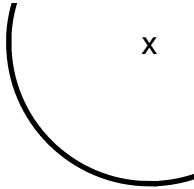


LE CERCLE

1) Termine les cercles dont on a commencé les tracés.



2) Utilise les points ci-dessous pour tracer les cercles demandés.

- * Trace un cercle de centre E et de rayon ED.

Écris tous les points qui sont sur ce cercle :

D •

A •

B •

C •

F •

- * Trace un cercle de centre C et de diamètre FB.

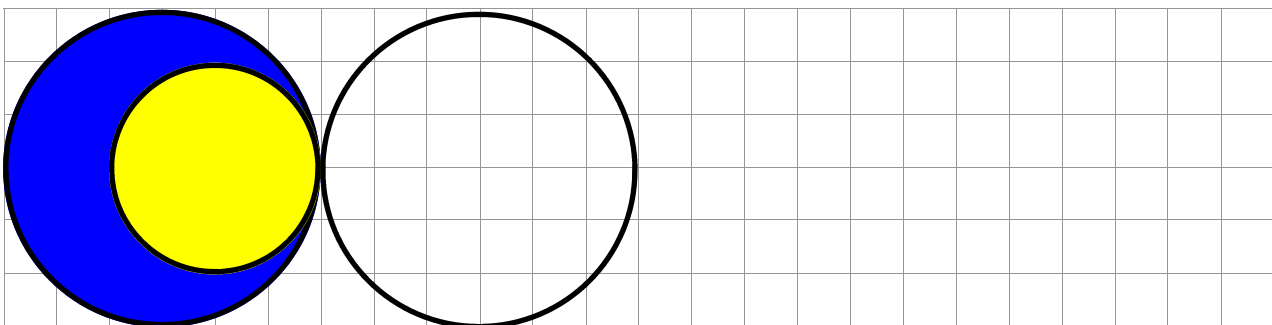
Écris tous les points qui sont sur les deux cercles :

E •

G •

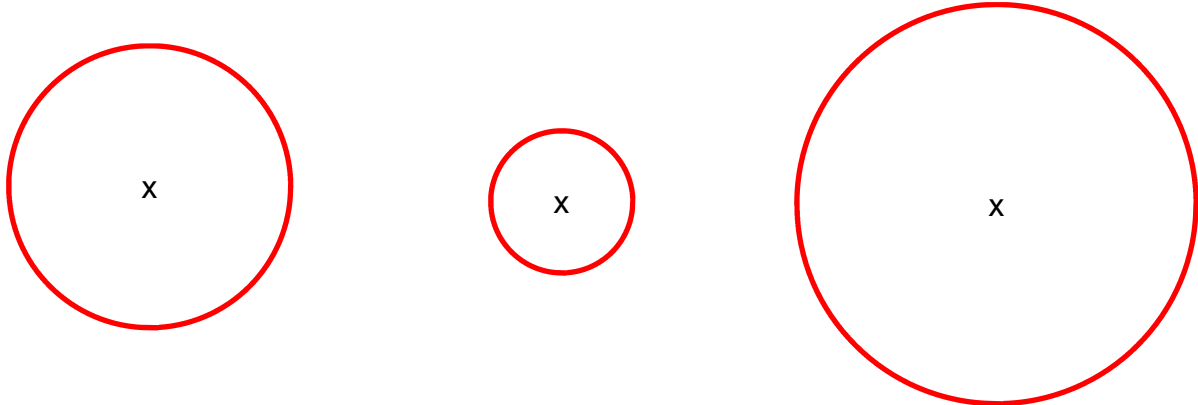
H •

3) Continue la frise.



LE CERCLE
CORRECTION

1) Termine les cercles dont on a commencé les tracés.



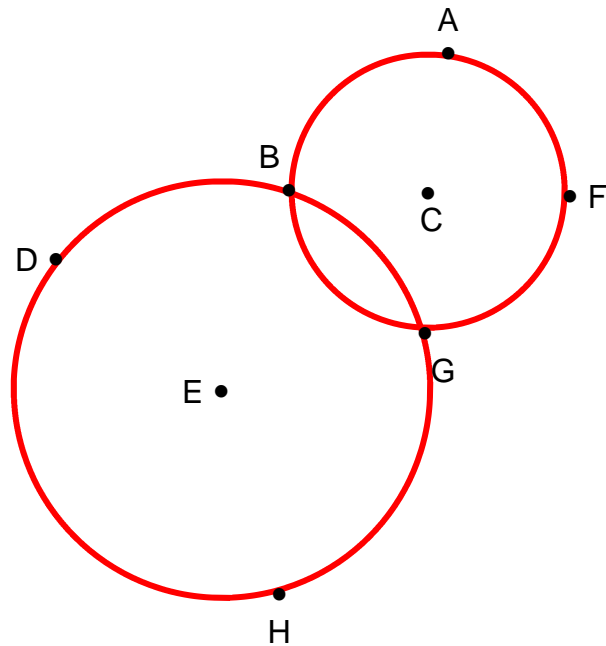
2) Utilise les points ci-dessous pour tracer les cercles demandés.

- * Trace un cercle de centre E et de rayon ED.

Écris tous les points qui sont sur ce cercle : **D, B, G et H**

- * Trace un cercle de centre C et de diamètre FB.

Écris tous les points qui sont sur les deux cercles : **B et G**



3) Continue la frise.

