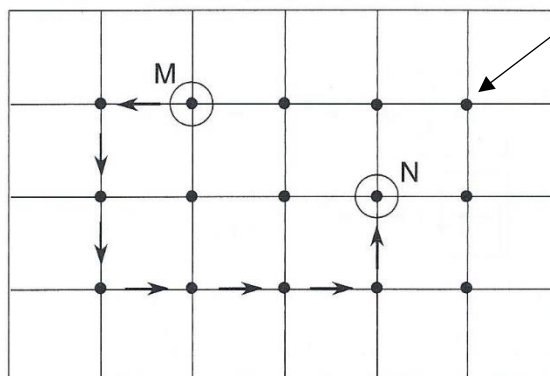
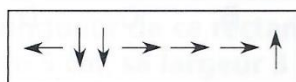


## Se déplacer sur les nœuds – CE2

### Observe :

On se déplace ici à partir des « nœuds » du quadrillage.

Voici le codage du trajet suivi pour aller de M à N :



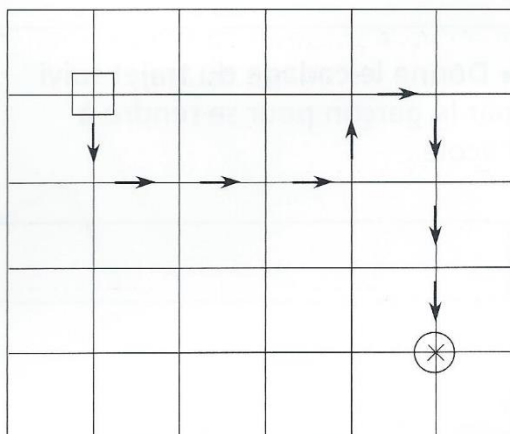
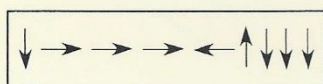
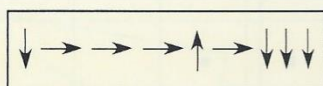
Ceci est un nœud

Un nœud est l'intersection entre la ligne verticale et la ligne horizontale.

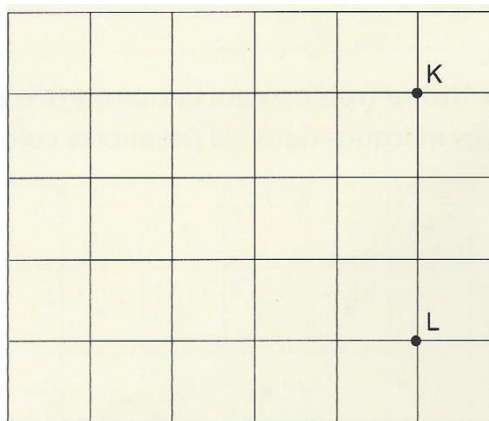
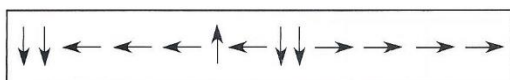
### Entraîne-toi

**1** Le petit carré est allé rejoindre le petit rond.

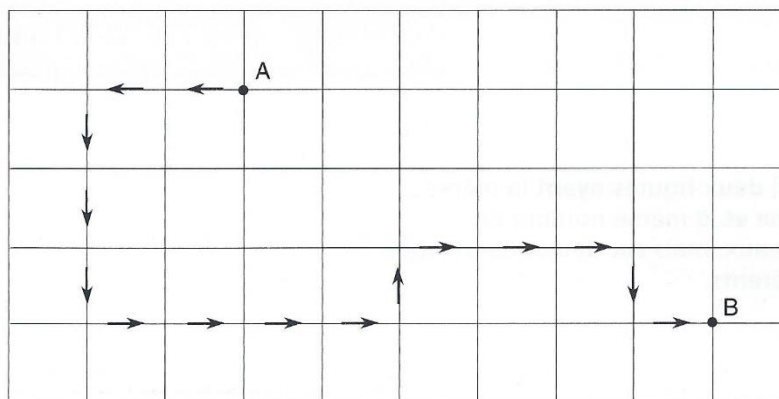
- Entoure le codage qui correspond au trajet.



**2** • Trace, sur le quadrillage le trajet parcouru pour aller de K à L en respectant ce codage :



**3**



- Donne le codage du trajet qui va de A à B :