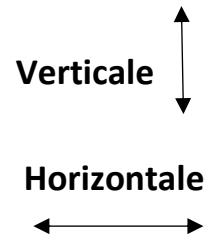
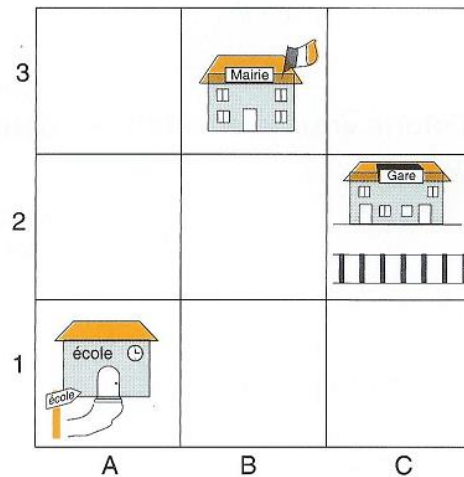


# Se repérer sur un plan – CE2

## Rappelle-toi :

- Chaque bande verticale du plan est désignée par une lettre : A, B, C.
- Chaque bande horizontale est désignée par un chiffre : 1, 2, 3.
- l'école est en A 1
- la mairie est en B 3
- la gare est en C 2

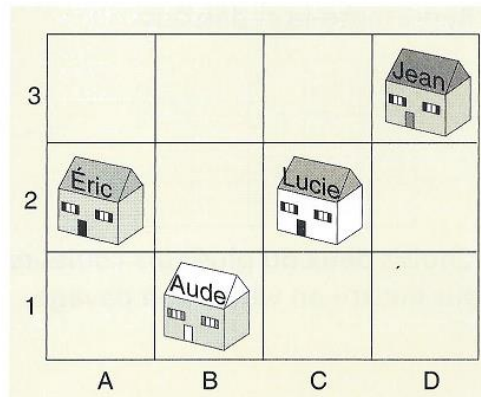


## Entraîne-toi

**1**

• Donne la position, sur le plan, des maisons de :

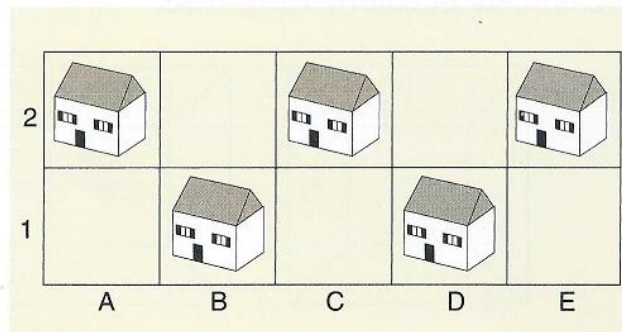
- Éric : ....
- Lucie : ....
- Jean : ....
- Aude : ....



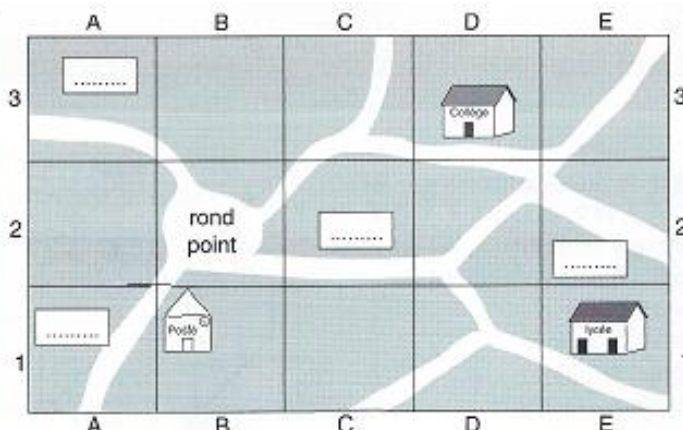
**2**

• Écris le prénom de chaque enfant dans sa maison :

- Louis en C 2
- Damien en D 1
- Paule en A 2
- Marie en E 2
- Carole en B 1



**3**



• Repère sur le plan la position :

- du rond-point ....
- de la Poste ....
- du lycée ....
- du collège ....

• Place sur le plan :

- le stade en A 1
- la piscine en E 2
- le parc en A 3
- la police en C 2