
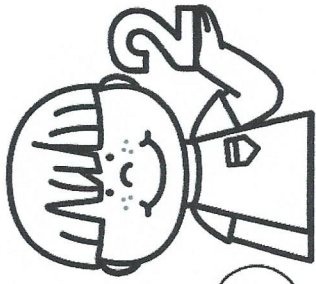


Calcul

CE2



PRÉNOT :

① Calcule en 2 min chrono !




$2 \times 7 =$	$5 \times 6 =$	$4 \times 4 =$	$3 \times 7 =$	$9 \times 7 =$	$8 \times 4 =$
$4 \times 9 =$	$3 \times 8 =$	$7 \times 9 =$	$5 \times 6 =$	$6 \times 9 =$	$9 \times 9 =$

② Effectue ces multiplications.

$5 \ 4$	$3 \ 7$	$6 \ 4$	$2 \ 9$	$9 \ 4$	$4 \ 5$
$X \ 4 \ 2$	$X \ 2 \ 9$	$X \ 7 \ 8$	$X \ 4 \ 1$	$X \ 5 \ 8$	$X \ 8 \ 9$



③ Résous ce problème.



Le matin, Océane a fait 18 longueurs dans une piscine de 25 m de long.



Combien de mètres Océane a-t-elle parcourus ce matin ?

Le matin, Océane a parcourus	
_____ mètres.	

Calcul / multiplication posée (Multiplicateur à 2 chiffres)