



Calcul

Correction

CE2



PRÉNOT :

① Calcule en 2 min chrono !

2 min

$$6 \times 5 = 30$$

$$3 \times 8 = 24$$

$$3 \times 6 = 18$$

$$5 \times 8 = 40$$

$$4 \times 4 = 16$$

$$6 \times 7 = 42$$

$$3 \times 5 = 15$$

$$7 \times 8 = 56$$

$$4 \times 7 = 28$$

$$9 \times 3 = 27$$

② Effectue ces multiplications.

$$\begin{array}{r} 62 \\ \times 39 \\ \hline 558 \\ +1860 \\ \hline 2418 \end{array}$$

$$\begin{array}{r} 84 \\ \times 27 \\ \hline 588 \\ +1680 \\ \hline 2268 \end{array}$$

$$\begin{array}{r} 35 \\ \times 62 \\ \hline 70 \\ +180 \\ \hline 2170 \end{array}$$

$$\begin{array}{r} 95 \\ \times 24 \\ \hline 380 \\ +1900 \\ \hline 2280 \end{array}$$

$$\begin{array}{r} 27 \\ \times 49 \\ \hline 1243 \\ +1080 \\ \hline 1323 \end{array}$$

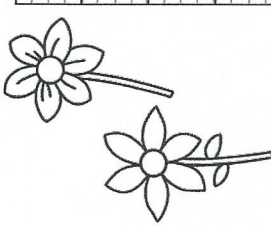
$$\begin{array}{r} 48 \\ \times 50 \\ \hline 000 \\ +2400 \\ \hline 2400 \end{array}$$



③ Résous ce problème.

Maïa est passionnée de fleurs ! Elle a déjà confectionné 29 herbiers de 165 fleurs chacun.

Combien de fleurs Maïa a-t-elle fait sécher au total ?



Je cherche le nombre de fleurs que Maïa a fait sécher.

Maïa a fait sécher 4785 fleurs en tout.

$$\begin{array}{r} 165 \\ \times 29 \\ \hline 1485 \\ +3300 \\ \hline 4785 \end{array}$$

<https://laclassebleue.fr/>

Calcul / la multiplication posée (Multiplicateur à 2 chiffres)