

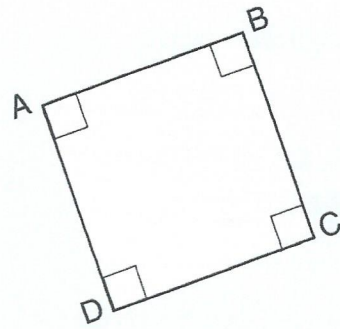
Correction

Géométrie : le carré

- Ce quadrilatère est un carré.


Il a :

- 4 côtés de même longueur :
 $AB = BC = DC = AD$
- 4 sommets
- 4 angles droits.



1

- Colorie en jaune tous les carrés.

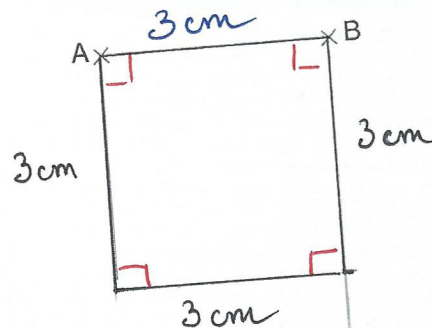


2

- À partir du côté [AB], déjà tracé, termine le carré ABCD.

Aide-toi :

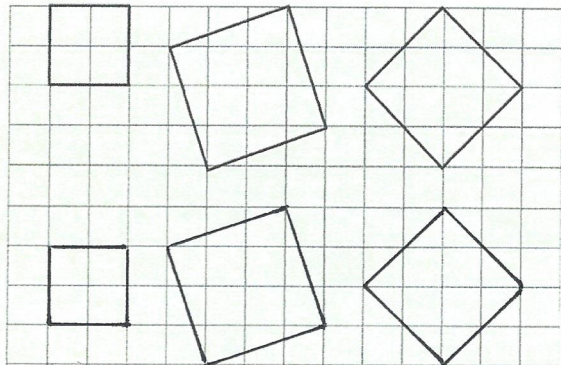
- de l'équerre pour construire les angles droits ;
- de la règle graduée pour mesurer la longueur de chaque côté.



3

- En t'aidant du quadrillage, reproduis chaque carré.

modèles :



reproductions :

