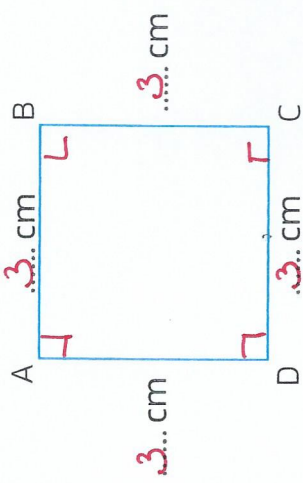


S'entraîner

Parcours A

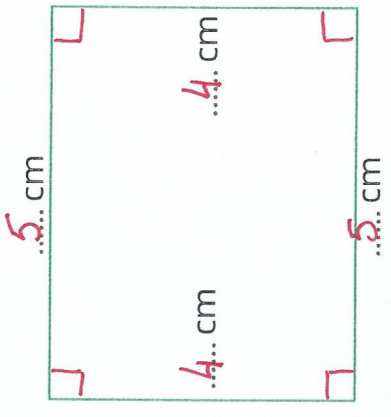
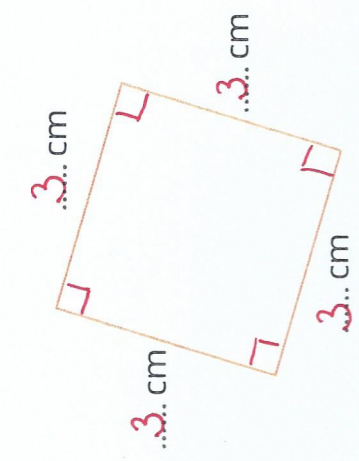
A1 Mesure les côtés de la figure.
 • Marque les angles droits et nomme la figure.



• C'est un carré...

Parcours B

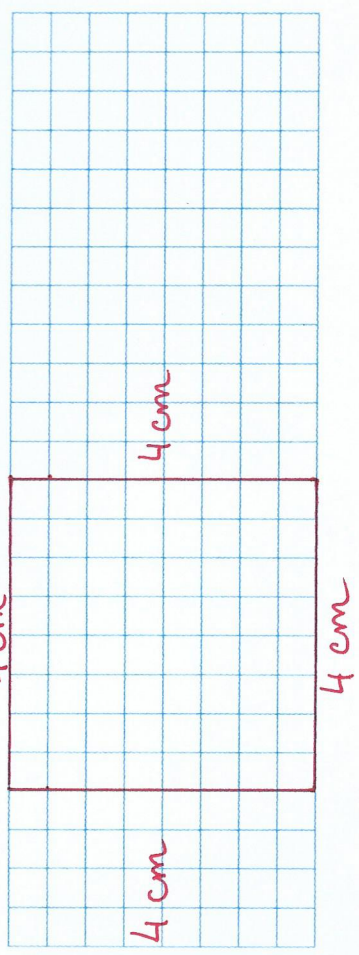
B1 Mesure les côtés des figures et entoure les bonnes réponses.
 • Indique si ce sont des carrés.



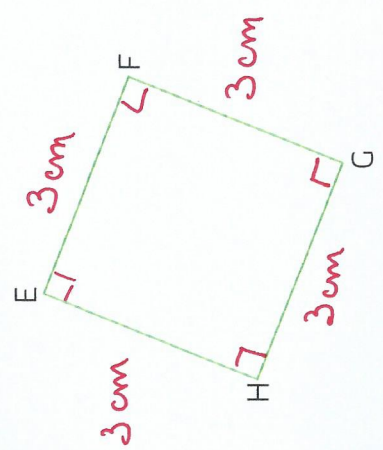
• 4 côtés égaux : oui - non
 • 4 angles droits : oui - non
 Réponse : C'est un carré.

• 4 côtés égaux : oui - non
 • 4 angles droits : oui - non
 Réponse : C'est un rectangle.

A2 Trace un carré de 4 cm de côté.



A3 Écris la « carte d'identité » de ce carré.



• Les 4 côtés mesurent 3 cm...
 • Les 4 angles sont droits... et les 4 côtés sont égaux...

B2 Trace un carré ABCD dont l'un des côtés est déjà tracé.

