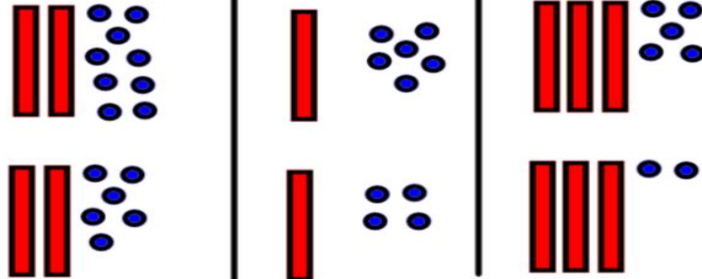
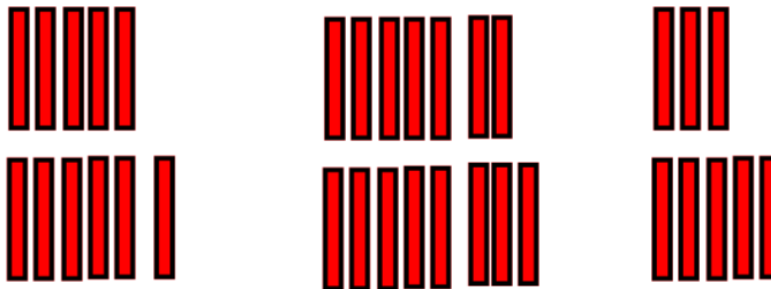


|         |       |       |       |
|---------|-------|-------|-------|
| Calcule | 29-26 | 16-14 | 35-32 |
|         |       |       |       |



Entoure la différence : qu'est-ce qui change entre le haut et le bas?

|       |       |       |
|-------|-------|-------|
| 50+60 | 70+80 | 30+50 |
|       |       |       |



Tu peux faire des paquets de 100.  
100 c'est 10 dizaines.

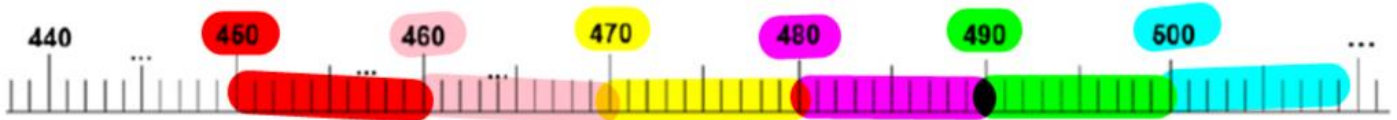
|         |     |     |     |     |     |     |     |     |     |     |      |
|---------|-----|-----|-----|-----|-----|-----|-----|-----|-----|-----|------|
| Calcule | 3X2 | 4X8 | 2X5 | 5X4 | 4X3 | 3X9 | 5X6 | 2X1 | 3X7 | 4X0 | 5X10 |
|         |     |     |     |     |     |     |     |     |     |     |      |

Complète avec : **le double de (2 fois plus grand)**  
ou **la moitié de (2 fois plus petit)**  
10 est .....5  
8 est .....16

20 est .....10  
14 est .....7  
100 est ..... 50

|                     |                     |                     |                     |                     |                     |
|---------------------|---------------------|---------------------|---------------------|---------------------|---------------------|
| ... X ... = ...<br> | ... X ... = ...<br> | ... X ... = ...<br> | ... X ... = ...<br> | ... X ... = ...<br> | ... X ... = ...<br> |
|---------------------|---------------------|---------------------|---------------------|---------------------|---------------------|

1/ Complète la droite graduée :



2/ Place les nombres suivants sur la droite graduée : 475, 492, 504

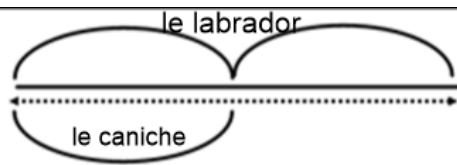
3/ Utilise la droite graduée pour trouver le résultat de l'opération suivante :  $450 + \dots = 500$

puis pour chercher :  $475 + \dots = 500$  et  $464 + \dots = 500$

Mes cousins ont chacun un chien. Le caniche fait 12 kg et le labrador pèse deux fois plus.

**Combien pèse le labrador ?**

calcul :

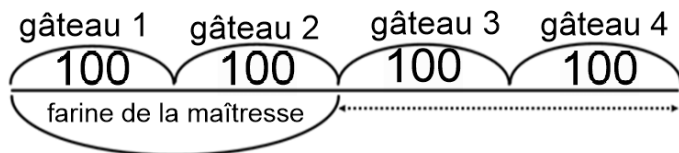


Le labrador pèse.....

Les enfants préparent quatre gâteaux. Il faut 100g de farine pour chaque gâteau. La maîtresse a déjà donné 200g.

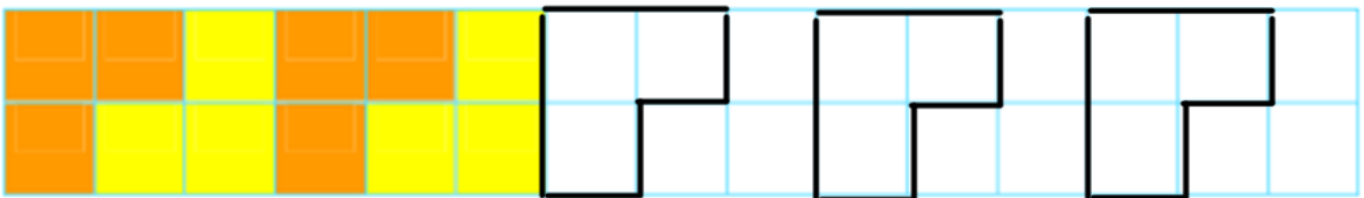
**Combien manque-t-il de farine ?**

calcul :



Il manque..... de farine.

**Complète le dallage comme le modèle :**



et

