



# MARDI 24 MARS 2020

Coucou les petits loups !  
Voici le plan de travail d'aujourd'hui.



## 1 : ORTHOGRAPHE (25 minutes)

Nous allons faire une dictée, tu prends ton cahier, tu écris la date, tu tires en rouge un petit trait à 5 carreaux de 5 carreaux et sur la ligne dessous tu écris dictée. Puis tu marques d'un point rouge les lignes 1 sur 2.



J'ai enregistré la dictée, écoute la bien entièrement, puis je vais la dicter plus lentement. Tu peux mettre sur pause si cela va trop vite.



Matéo - Malo NM - Chloé -  
Delphine - Alicia - vous aurez une  
dictée différenciée.

1/ Relis les mots du son in :

vingt	enfin	la main	maintenant	important	une ceinture
le printemps	brun	du pain	un timbre	j'ai faim	plein
un dessin	demain	un copain	impossible	la peinture	
le jardin	soudain	en train de			

2/ Regarde ces expressions : *j'ai fait- il vient -il est- je suis- c'est*

3/ Observe : *les tulipes, les timbres*

## 2 : GRAMMAIRE (10 - 15 minutes)

Sur ce site tu trouveras des jeux sur les noms propres et les noms communs.

[Les noms au CE1 - Soutien scolaire](#)

[soutien67.free.fr](http://soutien67.free.fr) > classes > français > les noms au CE1

## 3 : CALCUL MENTAL (15 minutes)

Prends la feuille de calcul mental de mardi 24 mars



Exercice 1 : Utilise les compléments à 10 / les doubles. Regarde bien l'exemple.

Exercices 2 - 3 : Quand tu additionnes les unités ensemble le résultat est plus grand que 10 Il faut donc rajouter une dizaine dans la colonne des dizaines. Tu peux poser les additions ou dessiner les opérations.

Calcul mental mardi 24  
des additions en ligne avec retenue | Date:

1 Calcule les sommes.

Si les unités forment une nouvelle dizaine, il faut l'ajouter aux autres dizaines.

65 + 15 =  36 + 26 =   
 53 + 17 =  23 + 29 =   
 32 + 28 =  79 + 16 =

2 Calcule les sommes et colorie les bonbons selon le code couleur.

82 vert 56 + 26 25 + 46 33 + 49  
 76 rose 28 + 48 57 + 14  
 71 orange 37 + 39 25 + 26  
 51 bleu

3 Calcule les sommes.

79 + 19 =  82 + 9 =   
 36 + 38 =  49 + 16 =   
 67 + 23 =  56 + 38 =

56 + 26 = 82

Va te dégourdir les jambes

Va boire un coup

Va aux toilettes



#### 4 : LECTURE SON (15 minutes)

Parents je vais vous mettre à contribution pour la leçon de lecture son.

Prendre la fiche sur le son B. Lui lire afin que votre enfant puisse trouver le son que l'on va étudier.

Prendre des mots dans la liste en dessous et lui demander s'il entend le son b si oui dans quelle syllabe.

**Bateau - s'habiller - tomber - tête - lavabo - toboggan**

**Trousse - pantalon - biberon - table -jambe - pirate.**

Il peut dessiner le nombre de syllabes et mettre une croix à l'endroit où il l'entend.

La Belle et la Bête,  
 Bras dessus, bras dessous,  
 Allaient de bal en fête,  
 Sans peur, ni tabou.  
 Ce n'est pas possible,  
 Quel couple horrible...  
 Mais bras dessus, bras dessous,  
 La Belle et la Bête,  
 Allaient de bal en fête,  
 Se faisant des bisous.



Pour que cela soit plus ludique, je te propose le site :

[Le son /b/ | Clic ! Ma Classe  
www.clicmaclasse.fr > le-son-b](http://www.clicmaclasse.fr)

Tu peux faire les exercices en ligne.

b		un bol
● →	→ ●	→ ●
une balle, un ballon un bateau le bébé un bec une bête un bonnet du bois le bord une botte, des bottes la bouche un bras une branche	le bébé un album un arbre une chambre un nombre du sable une table, des tables le tableau une botte, des bottes un timbre un sabot un habit un lavabo	de l'herbe une jambe, deux jambes une robe un tube une barbe
beau, beaux belle, belles blanc, blanche bleu, bleue blond, blonde	tomber s'habiller : je m'habille	
bonjour beaucoup - bien		
je me baigne		

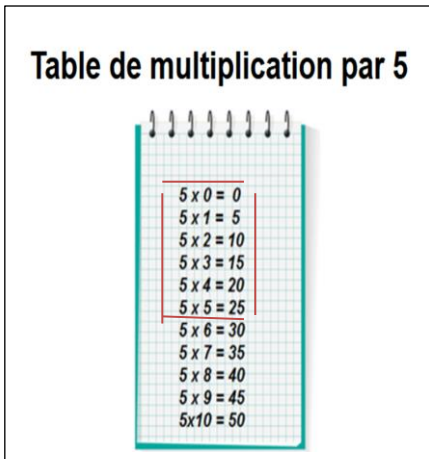
## 4 : MATHÉMATIQUES (30 - 45 minutes)

**A :** Apprendre la table de  $\times 5$  (l'encadré rouge). Retourne sur le site pour réécouter la chanson.

[https://www.google.com/url?sa=t&rct=j&q=&esrc=s&source=web&cd=1&cad=rja&uact=8&ved=2ahUKewjm47\\_S\\_q7oAhWB2eAKHYf-AusQyCkWAHoECBEQBQ&url=https%3A%2F%2Fwww.youtube.com%2Fwatch%3Fv%3D6EExdgMlga4&usq=AOvVaw2adAEvFATDJygTUcWCf3w1](https://www.google.com/url?sa=t&rct=j&q=&esrc=s&source=web&cd=1&cad=rja&uact=8&ved=2ahUKewjm47_S_q7oAhWB2eAKHYf-AusQyCkWAHoECBEQBQ&url=https%3A%2F%2Fwww.youtube.com%2Fwatch%3Fv%3D6EExdgMlga4&usq=AOvVaw2adAEvFATDJygTUcWCf3w1)

Puis des petits exercices d'entraînement.

[Table de 5 multiplication - tablesdemultiplication.fr](http://www.tablesdemultiplication.fr) [www.tablesdemultiplication.fr](http://www.tablesdemultiplication.fr) > [table-de-5](#)

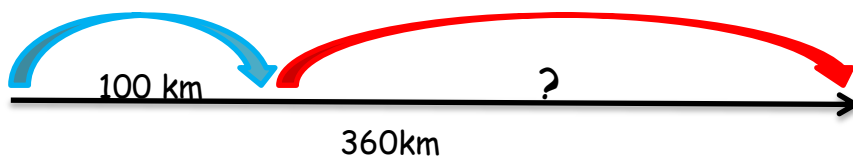


**B :** Reprends la fiche n° 11 d'hier pour la finir.

Tu te souviens du tableau centaines - dizaines - unités

C	d	u	gnant	C	d	u	
Léa	Léa	Léa	Léa	Théo	Théo	Théo	
Léa	Léa	Léa	Léa	Théo	Théo	Théo	

Problèmes :



Pour aller en vacances, Simon regarde le GPS de la voiture. La route est longue de 360 km. Quand ils font une pause pour s'arrêter, Simon et ses parents ont déjà parcouru 100 km. Quelle distance leur reste-t-il à faire ?

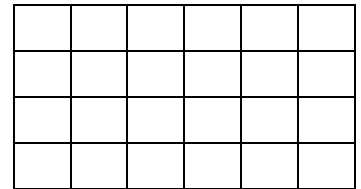
calcul

schéma

phrase réponse

Problème : Dessine la tablette de chocolat 4 rangée de 6 carreaux

Quel est le nombre de carreaux de chocolat que contient une tablette de 4 sur 6 ?	
calcul	schéma
phrase réponse	



### Géométrie : sur une feuille blanche

Trace sur la feuille:

- un segment de 6 cm
- un segment de 9 cm
- un triangle avec un côté qui fait 8 cm.

**C** : Prends la fiche n° 12. Si tu veux, on va la commencer sinon tu la feras mercredi.

Opérations 1-2-3 sont des soustractions on enlève.

$$29 - 26 = (20 + 9) - (20 + 6) = (9 - 6 = 3 / 20 - 20 = 20) = 3$$

prénom :				date rapide : / /		
MHM modules 14		fiche n° 12			période 4	
Calcule	29-26	16-14	35-32	50+60	70+80	30+50

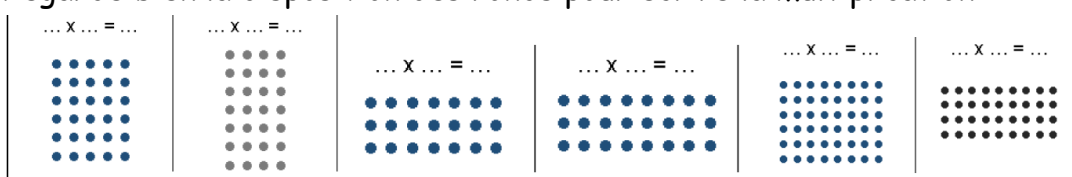
Prends ton cahier de maths et revois la table x 2 x3 x4 x5

Calcule	3X2	4X8	2X5	5X4	4X3	3X9	5X6	2X1	3X7	4X0	5X10

10 est le double de 5  $\longrightarrow$  5 est la moitié de 10

Complète avec : <b>le double de</b> ou <b>la moitié de</b>	20 est .....10
10 est .....5	14 est .....7
8 est .....16	100 est ..... 50

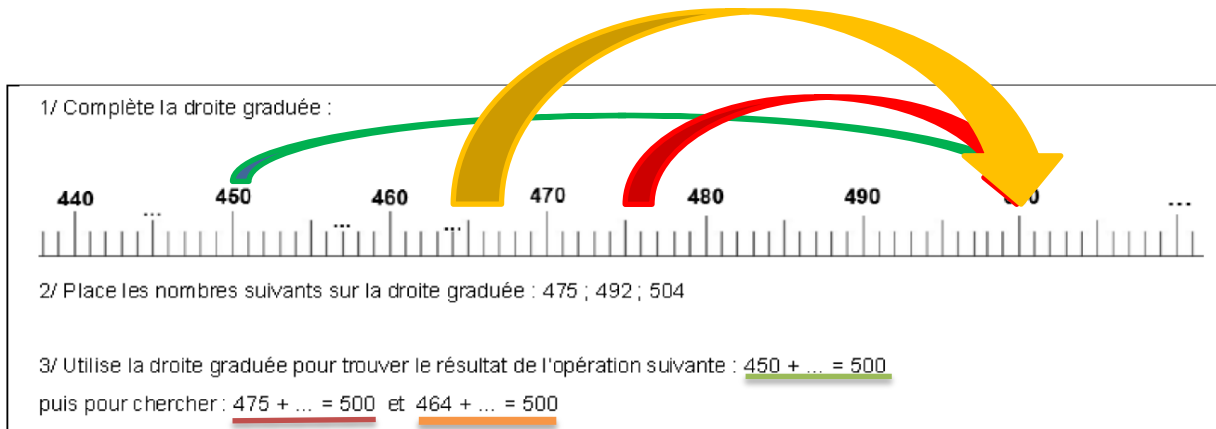
Regarde bien la disposition des ronds pour écrire la multiplication



1 : Ecris les nombres manquant sur les .....


2 : Place 475 - 492 - 504

3 : Regarde les flèches que j'ai dessinée.



## 5 : ATELIER DE LECTURE (15 minutes)

Prends « l'Atelier de lecture » p 45 / fiche n°35



Objectif : Je comprends les phrases (niveau 4).

### 65 Qui parle ?

★ Lis chaque phrase puis coche le nom de celui qui parle.

	Le docteur	Le boulanger	Le chanteur
Combien voulez-vous de baguettes ?			
Ouvrez grand la bouche !			
Nous n'avons plus de brioches !			
Tu as de la fièvre ?			
Le micro ne marche pas.			

Entoure le nombre de bonnes réponses. 0 1 2 3 4 5

★ **Même exercice.**  
Attention, il peut y avoir plusieurs réponses pour la même phrase !

	Le maître	L'élève	Le père de l'élève
J'ai fait des progrès en lecture !			
C'est l'heure de sortir en récréation !			
Dépêche-toi de partir à l'école !			
Tu diras à ton papa de venir me voir.			
Je viendrais te chercher à l'école en voiture.			
On est en vacances la semaine prochaine !			

Entoure le nombre de bonnes réponses. 0 1 2 3 4 5

★ **Relie les trois parties de chaque phrase, comme dans l'exemple.**

Ne marchez pas sur la pelouse.	• dit le maître nageur •	• au client.
Mets ton bonnet de bain.	• dit le gardien	• au baigneur.
C'est 4 euros le kilo.	• dit le policier	• au promeneur.
Mon clignotant ne marche plus.	• dit le vendeur	• au garagiste.
Vous roulez trop vite.	• dit le conducteur	• au chauffeur.

Entoure le nombre de bonnes réponses. 0 1 2 3 4

→ Regarde les résultats dans le grille de son.

## 6 : ANGLAIS

Tu révises les couleurs. Va sur la classe de Mme Diabo du vendredi 20 mars.  
Regarde la vidéo de Gogo pour te rappeler les couleurs puis le jeu sur le lien.

Temps 5 : Anglais



On révisé les couleurs. Regarde la vidéo de Gogo pour te rappeler des couleurs.

<https://www.youtube.com/watch?v=lki4RAq82xl>

puis fais le jeu sur ce lien : <http://classedeflorent.fr/accueil/anglais/colors/dictee-couleurs.php>

10 minutes  de pause

### 7 : ECRITURE (15 minutes)

Sur ce site, on te montre comment écrire les lettres minuscules. Entraîne-toi sur v - vv - r. Puis dans ton cahier d'écriture commence la page v - vv - r

[L'écriture au CP - Lettres minuscules manuscrites - Soutien ...  
soutien67.free.fr > classes > francais > ecriture 3 au CP](http://soutien67.free.fr/classes/francais/ecriture_3_au_CP)


### 8 : QUESTIONNER LE MONDE : LE TEMPS

Site d'hier, les instruments de mesure du temps.

Feuille format A5 Réponds aux devinettes.

1 : le réveil / 2 : le sablier / 3 : le chronomètre / 4 : la pendule / 5 : le minuteur  
6 : la montre / 7 : l'horloge

### Pause méditation



Tu peux retrouver vos exercices de petit bambou , comme à l'école, gratuitement sur ce site : [www.petitbambou.com/fr/jeunesse](http://www.petitbambou.com/fr/jeunesse), en renseignant une adresse email, vous aurez accès à les séances enfants (5-12) gratuitement

**Bon c'est fini vous avez super  
bien travaillé !**