

prénom :	date rapide : / /	
MHM modules 12/13	fiche n° 9	période 4

Calcule	43+17	66+25	39+13	54+26	61+19	58+27

Calcule	4X2	4X8	4X5	4X4	4X3	4X9	4X6	4X1	4X7	4X0	4X10


Entoure le chiffre demandé	342	418	704	985	109	740	918	567
	centaine	unité	dizaine	unité	dizaine	centaine	centaine	dizaine

en lettres	128	
	349	

trouve 5 façons d'écrire 5								
----------------------------	--	--	--	--	--	--	--	--


la moitié de	84	120	346	250

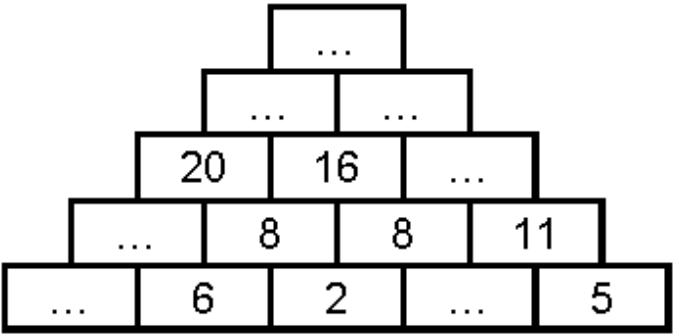
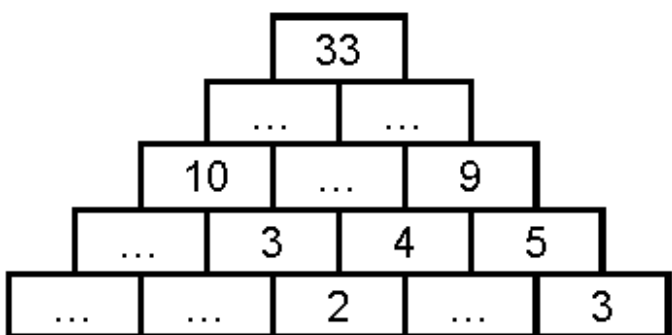
problème Les élèves ont mesuré le tour de la cour de récréation. La cour a une forme de rectangle ; Le grand côté fait 50 mètres et le petit côté fait 22 mètres. **Quelle distance mesure tout le tour de la cour ?**

dessin	schéma	calculs
		


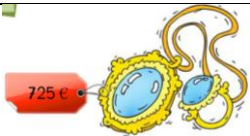
Le tour de la cour fait m

problème La piste rose autour du terrain de football fait 400 mètres. Les élèves doivent faire 3 tours. **Quelle distance vont-ils courir ?**

	calculs :
phrase réponse :	

	
-------------------------------------------------------------------------------------	--------------------------------------------------------------------------------------

dessine les pièces et billets :

	
------------------------------------------------------------------------------------	--------------------------------------------------------------------------------------