


FEUILLE DE CORRECTION DU LUNDI 20 avril

Exercice d'Orthographe


La **l**angue - c'est **a**gréable - il est **f**atigué - une **g**omme - un **m**agasin -
la **g**uerre - le **r**egard - un **d**ragon - **g**uider - une **v**ague

Exercices de grammaire : les déterminants

3 Écris devant chaque groupe de mots deux déterminants qui peuvent convenir.

 ma une ta la cette pomme	mes les ses des ces princesses	une cette la récréation
--	---	----------------------------------

4 Écris devant chaque groupe de mots deux déterminants qui peuvent convenir.

 ma la sa une ta piscine	ces les ses des vos vestiaires	une ma sa la ta chambre
---	---	--

3 Souligne le nom dans les groupes de mots et entoure le déterminant.

ma belle voiture cette montre blanche la table basse du pain dur	leurs cordes à sauter mon beau sapin la pluie fine son cartable bleu
---	---

4 Souligne le nom dans les groupes de mots et entoure le déterminant.

une assiette creuse ces chaussures noires son sport favori cet été chaud	ce beau printemps des rideaux gris la chaise haute sa tasse cassée
---	---


Problèmes

1 Le chat de Maxime pèse 4kg. Son chien pèse 7kg de plus.
Combien pèse le chien de Maxime ?
Je cherche le poids du chien.

$$4 \text{ kg} + 7 \text{ kg} = 11 \text{ kg}$$

Le chien pèse 11 kg.

2 4 enfants se partagent 16 gâteaux en parts égales.
Combien de gâteaux aura chaque enfant ?
Je cherche le nombre de gâteaux par enfant.



Chaque enfant a 4 gâteaux.

3 Lola a un collier de perles. Il y a 38 perles jaunes. Il y a 12 perles vertes de plus.
Combien y a-t-il de perles vertes ?
Je cherche le nombre de perles.

$$\begin{array}{r} 38 \\ + 12 \\ \hline 50 \end{array}$$

Le collier a 50 perles.

4 Thomas a 34 billes. Il en a 7 de plus de Fabien.
Combien Fabien a-t-il de billes ?
Je cherche le nombre de billes de Fabien.

$$34 - 7 = 27$$

$$34 - (4 + 3) = 34 - 4 = 30 - 3 = 27$$

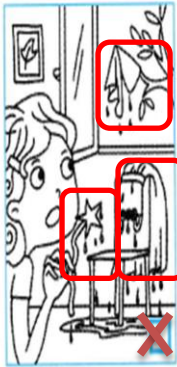
Fabien a 27 billes.

40 Une histoire, des images

★ Coche le dessin qui correspond à l'histoire.



Avec des clous et des planches, Martin a construit une cabane dans un arbre. Pendant la nuit, le vent a soufflé très fort. Le lendemain matin, Martin découvre sa cabane détruite. Quelle tristesse !



Tout était prêt pour Carnaval, Sonia avait posé son costume de fée sur une chaise. Mais elle a oublié de fermer la fenêtre et un orage a éclaté. Maintenant, sa robe est trempée, sa baguette magique est devenue molle comme du chewing-gum, son chapeau s'est envolé et elle ne peut plus le rattraper.



★★ Entoure le mot en bleu qui convient pour compléter l'histoire. Aide-toi des deux dessins et de leur légende.



Le prince avant le combat

Prince Étourneau est un drôle d'étourdi ! Il a perdu deux fleurs / plumes de son chapeau, mais il ne sait plus où. Son épée est tordue / cassée mais il ne sait plus pourquoi. Il a sali / déchiré son pantalon, mais il ne sait plus comment. Par contre, Prince Étourneau est courageux ! Il a combattu un dragon / lion et il a réussi à le tuer avec son épaupe / épée tordue. Dans le combat, il a perdu deux dents, il s'est griffé la joue / main et il a déchiré le bas de son gilet / pantalon fleuri !



Le prince après le combat