



Plan de travail du Vendredi 5 juin



Orthographe

Rappelle-toi :



A RETENIR


Quand la lettre y est juste après a, o, u, elle vaut deux i : *des rayons (rai-ions), joyeux (joi-ieux).*

- 93** Trouve et écris les cinq mots qui contiennent oy.
- aboyer, se mouiller, envoyer, revoir, la propreté, nettoyer, payer, le loyer, un stylo, un voyageur.

Vendredi 5 juin

Orthographe

ex 93



L'adjectif qualificatif

1 Dans chaque groupe de nom, souligne le ou les adjectifs et indique par une flèche le nom qu'ils complètent.

des loups féroces

une belle écharpe chaude

de longs cheveux bruns

un enfant silencieux

une médaille argentée

un vieux livre passionnant

2 Dans chaque phrase, souligne le ou les adjectifs et indique par une flèche le nom qu'ils complètent.

Mon animal favori est l'ours polaire : c'est une excellent nageur.

J'ai assisté à un spectacle fabuleux avec d'incroyables acrobates.

Un serpent dangereux se faufile entre les hautes herbes sèches.

Le terrible dragon se cache dans une grotte mystérieuse.

3 Recopie la phrase suivante en supprimant les adjectifs.

Les adorables marmottes hibernent pendant le long hiver rigoureux.

Grammaire :

Exercice photocopié dans la pochette :

Atelier Lecture p.83



Objectif 2 : Je comprends et j'utilise les informations d'un document.

58 La comparaison

CRIQUET OU SAUTERELLE ?
Tu as peut-être déjà vu ces deux insectes dans la nature. Découvre leurs ressemblances et leurs différences.

La grande sauterelle verte
De couleur vert fluo, elle a de très grandes antennes, plus longues que son corps. Elle se nourrit d'insectes, mais aussi de plantes. Seules les sauterelles mâles chantent. Pour chanter, elles utilisent leurs ailes du dessus (les élytres). Elles les frottent l'une contre l'autre, ce qui produit un son : on dit qu'elles strident.

Le criquet champêtre
On le reconnaît à ses courtes antennes et à sa couleur marron et vert foncé. Le criquet (mâle ou femelle) stridule en frottant ses pattes arrière contre ses élytres. Il ne mange que des végétaux.

- ★ Lis le document puis entoure la bonne réponse.
- Ce document est une publicité / une fiche documentaire / un prospectus.
- Il permet de comparer / attraper / apprivoiser deux insectes qui se ressemblent.

Entoure le nombre de bonnes réponses. (0) (1) (2)

- ★★ Entoure la bonne réponse en t'aidant du document.
- Les sauterelles ont des antennes aussi longues que celles des criquets. Vrai / Faux
- Les criquets et les sauterelles sont exactement de la même couleur. Vrai / Faux
- Les sauterelles utilisent leur bouche pour chanter, comme les criquets. Vrai / Faux
- Pour striduler, les criquets utilisent leurs pattes, mais pas les sauterelles. Vrai / Faux

Entoure le nombre de bonnes réponses. (0) (1) (2) (3) (4)

- ★★ Lis chaque information puis coche le paragraphe dans lequel on pourrait l'ajouter.
Attention, il peut y avoir deux réponses !
- | | Le criquet | La sauterelle |
|---|--------------------------|--------------------------|
| • Mâles et femelles chantent pour communiquer entre eux. | <input type="checkbox"/> | <input type="checkbox"/> |
| • Ce carnivore mange des chenilles ou des larves. | <input type="checkbox"/> | <input type="checkbox"/> |
| • Les élytres, plus épaisses, protègent les ailes du dessous. | <input type="checkbox"/> | <input type="checkbox"/> |

Entoure le nombre de bonnes réponses. (0) (1) (2) (3) (4)

☞ Reporte tes résultats dans la grille de suivi.


Atelier vocabulaire p.66 ex 1 et 2

Objectif 4 : Je comprends les expressions.

- ★ Relie chaque expression au sens qui lui correspond.
- | | |
|---------------------------------|-------------------------------------|
| avoir l'eau à la bouche • | • avoir du chagrin |
| avoir les cheveux en bataille • | • avoir envie de manger ou de boire |
| avoir le cœur gros • | • avoir les cheveux ébouriffés |
| avoir les paupières lourdes • | • avoir sommeil |

Comment as-tu réussi ? (0) (1) (2)

- ★★ Écris chaque nom dans la bonne phrase.
bras - main - jambes - barbe - tête - langue
- S'enfuir à toute vitesse, c'est s'enfuir à toutes
- Demander la réponse, c'est donner sa au chat.
- Être paresseux, c'est avoir un poil dans la
- Rester sans rien faire, c'est rester les croisés.
- Être rêveur, c'est avoir la dans les nuages.



Maths :

<https://lesfondamentaux.reseau-canope.fr/discipline/mathematiques/operations/calcul-pose-de-soustractions/soustraire-des-entiers-sans-retenue.html>

Rappel :

Pour poser une soustraction en colonne, je dois faire attention à bien aligner les unités sous les unités, les dizaines sous les dizaines, les centaines sous les centaines.

Exemple : $347 - 132$

	c	d	u
	3	4	7
-	1	3	2
	2	1	5

Je commence par les unités : $7 - 2 = 5$.
Je pose **5** unités.

Je continue par les dizaines : $4 - 3 = 1$.
Je pose **1** dizaine.

Je termine par les centaines : $3 - 1 = 2$.
Je pose **2** centaines.

$347 - 132 = 215$

Fais ces exercices dans ton cahier du jour :

J'APPLIQUE

- a) À l'automne, Juliette avait planté 58 bulbes de tulipes, narcisses et jacinthes. Au printemps suivant, 46 fleurs sont sorties de terre. Combien de bulbes n'ont pas fleuri ?
- b) Paloma, qui a 10 ans, mesure 147 cm. Sa cousine Éléonore, qui a 7 ans, mesure 123 cm. Calcule la différence de taille entre les deux cousines en posant une soustraction.



JE M'ENTRAÎNE

1 Recopie et calcule.

$\begin{array}{r} 98 \\ - 62 \\ \hline \end{array}$	$\begin{array}{r} 649 \\ - 527 \\ \hline \end{array}$
$\begin{array}{r} 435 \\ - 212 \\ \hline \end{array}$	$\begin{array}{r} 324 \\ - 13 \\ \hline \end{array}$

Exercices bonus pour ceux qui en redemandent...

PROBLÈMES

- 3 Calcule la différence entre ces nombres en posant une soustraction. Fais attention à bien poser les nombres.
a) 54 et 78 c) 264 et 43
b) 468 et 155 d) 117 et 149

4 Recopie et retrouve le nombre effacé.

$\begin{array}{r} 43 \\ - \quad \quad \\ \hline 21 \end{array}$	$\begin{array}{r} \quad \quad \quad \\ - 153 \\ \hline 210 \end{array}$
$\begin{array}{r} 56 \\ - \quad \quad \\ \hline 36 \end{array}$	$\begin{array}{r} \quad \quad \quad \\ - \quad \quad \quad \\ \hline 111 \end{array}$

- 6 Deux frères, Hugo et Quentin, comparent leur tirelire. Hugo a 68 €. Quentin a 42 €. Combien Hugo a-t-il d'argent de plus que son frère ?



- 7 Lisa a préparé 37 cartons d'invitation pour son anniversaire. Elle doit maintenant les poster. Sa maman a mis 48 timbres à sa disposition. Combien de timbres lui restera-t-il ?

À TOI DE JOUER !

Le plus grand arbre du monde est un séquoia. Il se trouve aux États-Unis, en Californie.

Tu trouveras sa hauteur, en mètres, en posant cette soustraction :

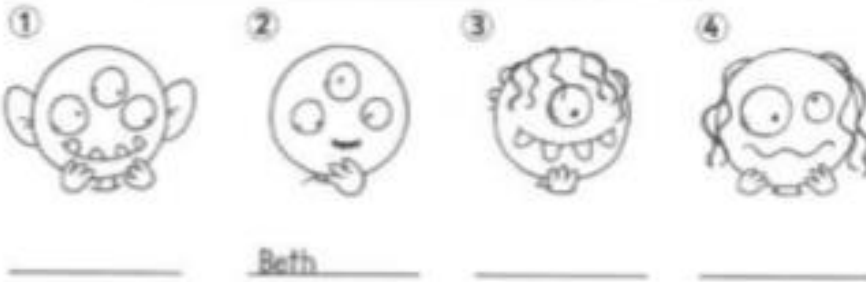
$$369 - 254$$

Anglais :

Exercice photocopié dans la pochette :

Listen and write.

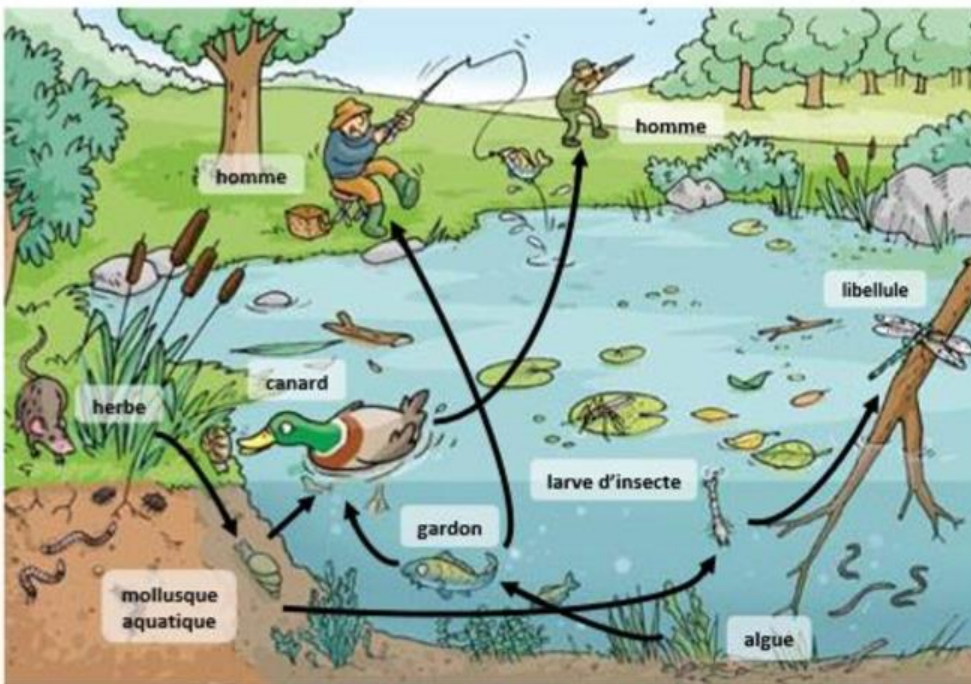
Beth Harry Yasmin Joe



Questionner le monde:

Exercice photocopié dans la pochette :

- Des chaînes alimentaires dans un étang



→ est mangé par

- Trouve une chaîne alimentaire de trois maillons dans cet étang et deux de quatre maillons.

□ → □ → □

□ → □ → □ → □

□ → □ → □ → □