

Calcule

Trouve la différence : entoure-la.

28-23	58-54	37-32

Compte les dizaines : Quand tu as 10 dizaines, c'est 100.

50+90	70+60	30+80

Colorie de deux couleurs :

60 = .....+.....	10 = .....+.....	100 = .....+.....	50.+ ..... =100	25.+ .....=100






Ecris en lettres	411 :
------------------	-------

Calcule	2X2	4X8	3X5	5X4	2X3	4X9	1X6	2X1	4X7	5X0	3X10

1x1= 1 1x2= 2 1x3= 3 1x4= 4 1x5= 5 1x6= 6 1x7= 7 1x8= 8 1x9= 9	2x1= 2 2x2= 4 2x3= 6 2x4= 8 2x5= 10 2x6= 12 2x7= 14 2x8= 16 2x9= 18	3x1= 3 3x2= 6 3x3= 9 3x4= 12 3x5= 15 3x6= 18 3x7= 21 3x8= 24 3x9= 27	4x1= 4 4x2= 8 4x3= 12 4x4= 16 4x5= 20 4x6= 24 4x7= 28 4x8= 32 4x9= 36	5x1= 5 5x2= 10 5x3= 15 5x4= 20 5x5= 25 5x6= 30 5x7= 35 5x8= 40 5x9= 45
--	---	--	---	--

5 en 5 à rebours	50	45									
------------------	----	----	--	--	--	--	--	--	--	--	--

1	2	3	4	5	6	7	8	9	10	11	12	13	14	15	16	17	18	19	20	21	22	23	24	25	26	27	28	29	30	31	32	33	34	35	36	37	38	39	40	41	42	43	44	45	46	47	48	49	
50	51	52	53	54	55	56	57	58	59	60	61	62	63	64	65	66	67	68	69	70	71	72	73	74	75	76	77	78	79	80	81	82	83	84	85	86	87	88	89	90	91	92	93	94	95	96	97	98	99

				
2x3	4x5	3x3	1x4	5x2

Pour coudre des rideaux pour sa maison, madame Duval a acheté 4 rouleaux de tissu. Chaque rouleau comporte 2 mètres de tissus. **Quelle longueur de tissus a-t-elle au total ?**

calcul :



Elle a ..... de tissus.

La famille Dumas va en vacances en Russie. Ils vont faire la route en trois jours. Chaque jour, les parents vont conduire pendant 8 heures. **Combien d'heures va durer le trajet au total?**

calcul :



Le trajet va durer .....

