




prénom :		date rapide : / /	
MHM modules 14		fiche n° 14	
période 4			

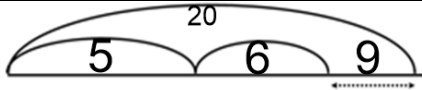
Calcule	46-41	29-24	54-50	30+90	40+80	90+50
	5	5	4	120	120	140

Calcule	5X2	2X8	1X5	3X4	4X3	2X9	5X6	4X1	5X7	3X0	2X10
	10	16	5	12	12	18	30	4	35	0	20

2 en 2 à rebours	50	48	46	44	42	40	38	36	34	32	30
------------------	----	----	----	----	----	----	----	----	----	----	----

		
182	317	452

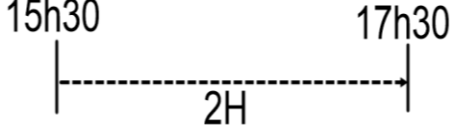
Avec ses économies, Léa achète deux livres : un livre à 5€ et un livre à 6€. Elle donne un billet de 20€ à la vendeuse. **Combien d'argent lui rend la vendeuse ?**

calcul : $5+6+?=20$ $20-11 = 9$	
---------------------------------------	--

Elle lui rend **9 euros.**


Papa a pris le train de 15h30 à Paris. Il doit arriver au Havre deux heures plus tard.


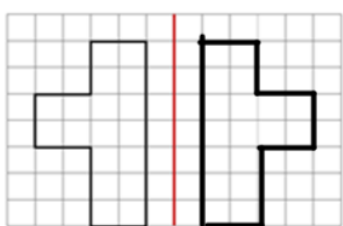
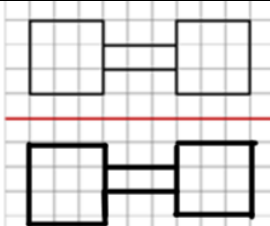
A quelle heure va-t-il arriver ?

calcul : $15h30 + 2h = 17h 30$	
-----------------------------------	--


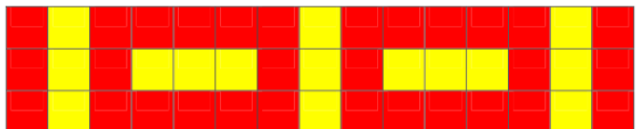
Il arrive à **17h30**

Dessine un triangle. À gauche du triangle, dessine un cercle. Dessine un carré à l'intérieur du cercle et à droite dessine un rectangle dont la longueur est verticale.



		
---	---	--

Reproduis ce dallage :

	
---	--