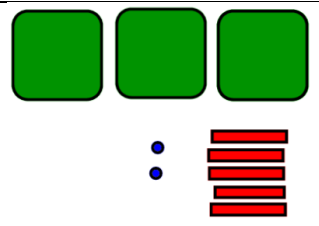
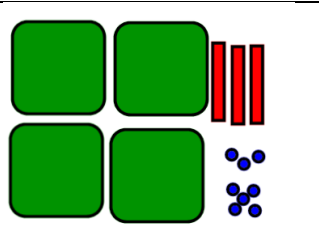
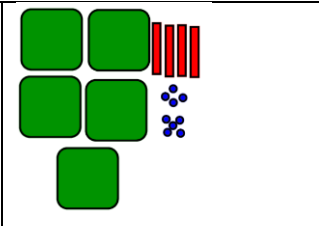



Calcule	$7 + 7 + 7 =$ $3 \times 7 = 21$ OU 7×3	$4 + 4 =$ $2 \times 4 = 8$ OU 4×2	$5 + 5 + 5 + 5 + 5 + 5 =$ $6 \times 5 = 30$ OU 5×6	$8 + 8 + 8 + 8 =$ $4 \times 8 = 24$ OU 8×4
	Comme $6 \times 9 = 54$ alors $9 \times 6 = 54$	Comme $8 \times 9 = 72$ alors $9 \times 8 = 72$	Comme $3 \times 4 = 12$ alors $4 \times 3 = 12$	Comme $6 \times 7 = 42$ alors $7 \times 6 = 42$
	$18 + 7 = 25$	$50 + 60 = 110$	$405 + 22 = 427$	$29 + 13 = 42$

Ecris en lettres | 364 = TROIS-CENT-SOIXANTE-QUATRE

DESSINE			
	352	438	549

Le marchand de fruits et légumes a mis en rayon 23 kg de pommes reinettes, 37 kg de pommes golden. À midi, 36 kg de pommes ont été vendus. **Quelle masse de pommes lui reste-t-il ?**

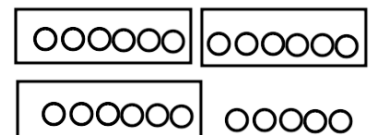
calcul :
 $23 + 37 = 60$
 et $60 - 36 = ?$ ou $36 + ? = 60$
 $? = 24$

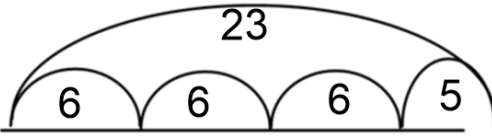


Il lui reste 24 kg de pommes.

Dans le poulailler, Mme Martin a ramassé 23 oeufs. **Combien de boîtes de 6 oeufs peut-elle complètement remplir ?**

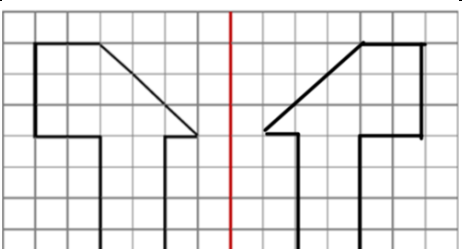
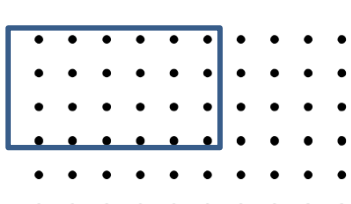
calcul :





$6 + 6 + 6 + 5 = 23$

Elle peut complètement remplir 3 boîtes complètement.

	$\begin{array}{r} 764 \\ - 210 \\ \hline 554 \end{array}$	ENTOURE 4x6 
--	---	--