

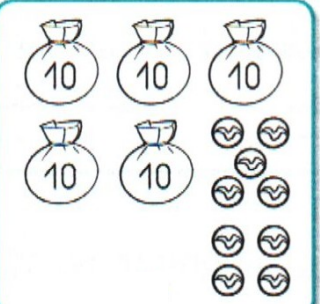



Objectif : approfondir la structuration des nombres jusqu'à 79.

1) Relie chaque carte au nombre correspondant. 

			
---	---	--	---

35

57

47

59

2) Décompose les nombres comme le modèle. *20*

28	$10 + 10 + 8$	$20 + 8$
39		
42		
57		
54		

3) Ecris les nombres en chiffres. *20*

6 dizaines et 7 unités



7 dizaines et 0 unité


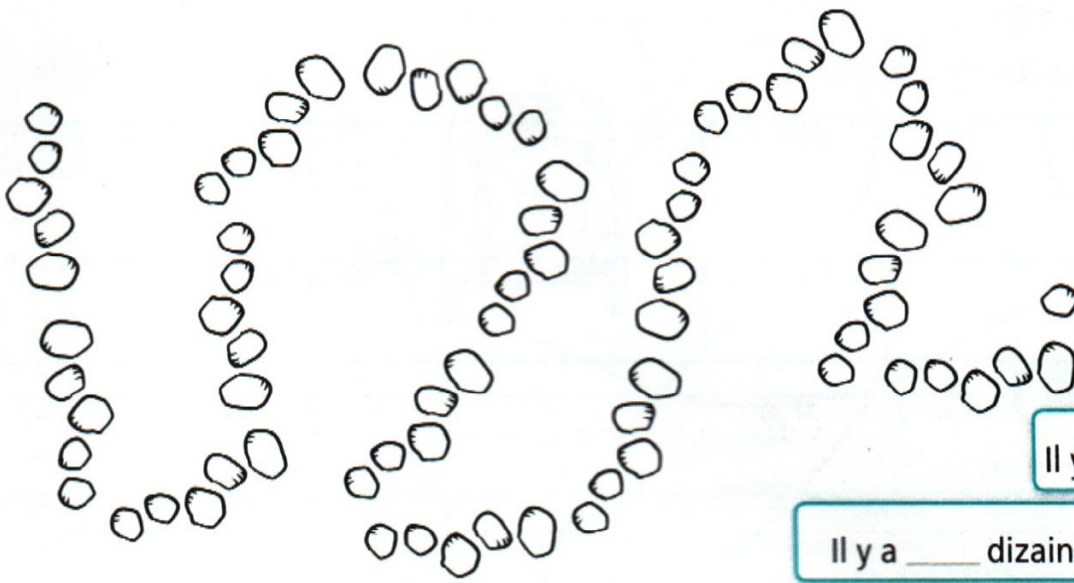
6 unités et 7 dizaines



5 unités et 6 dizaines

4) Ecris le nombre de cailloux que le Petit Poucet a semés.

(Fais des paquets de 10).



Il y a _____ cailloux.


Il y a _____ dizaines et _____ unités.

5) Pour chaque nombre, colorie les dizaines et les unités.

65

59

68



6) Compare les nombres en utilisant le signe < ou le signe >.

67 _____ 76 75 _____ 45 9 _____ 78 71 _____ 50

56 _____ 72 79 _____ 69 77 _____ 57 60 _____ 70

Aide : Entoure le nombre le plus petit. La pointe indique le nombre le plus petit : ③ < 5.