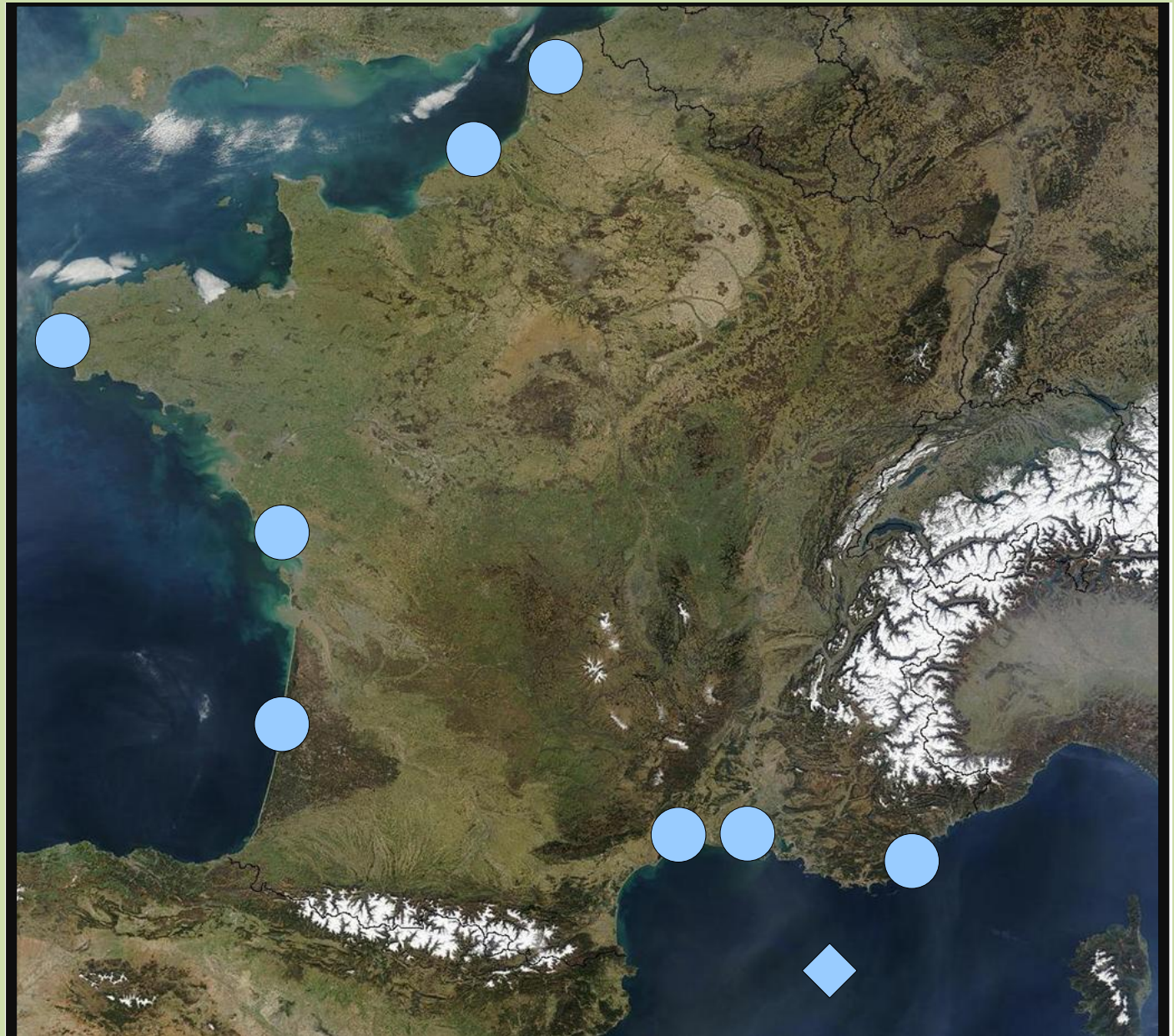


# Le littoral français

1) Observe cette photographie.

Comment appelle-t-on ce type de photographie ?

2) Observe les points bleus sur la carte.  
Où sont-ils placés ?





# Le littoral français

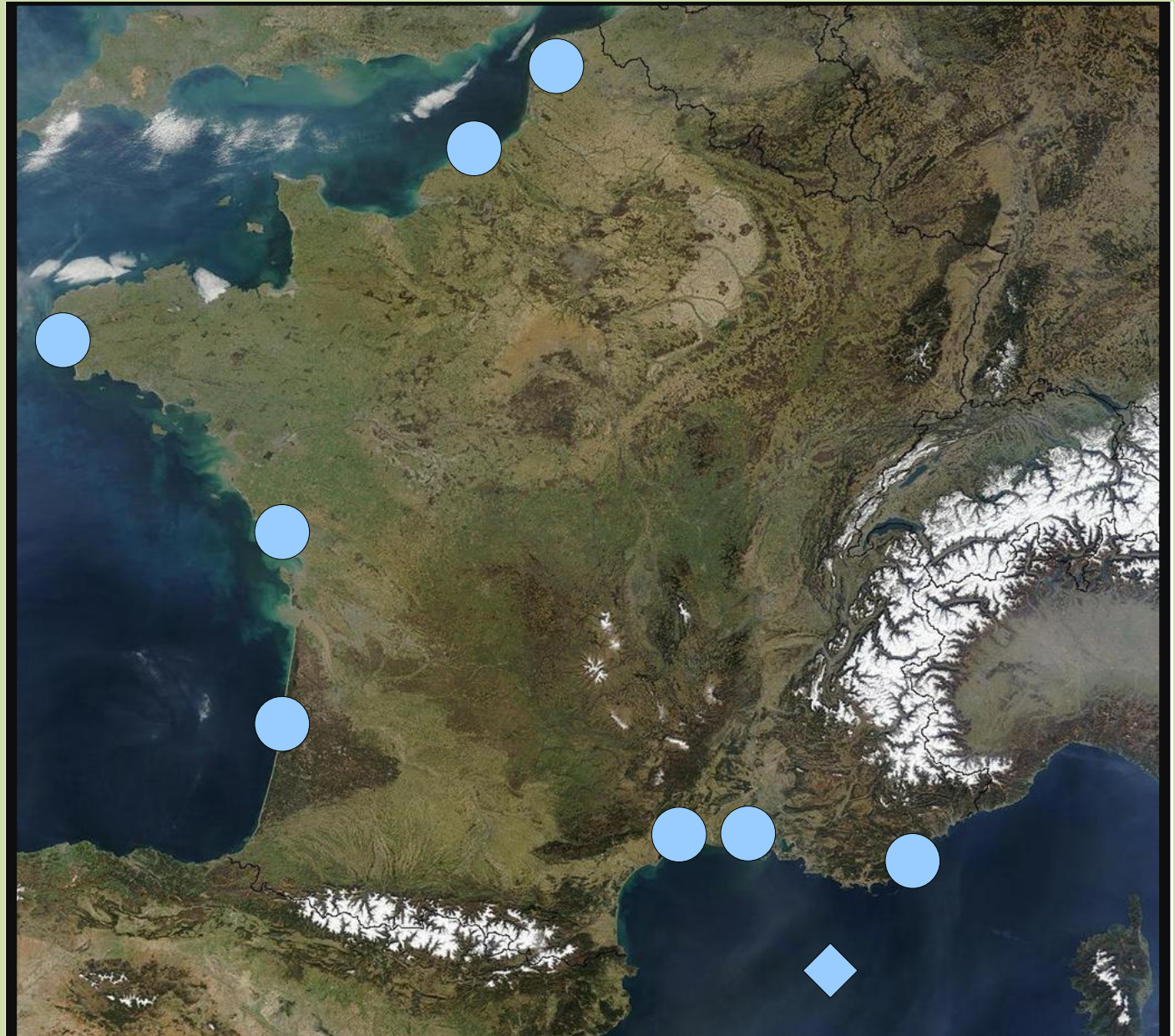
**Rappel:** Les mers et l'océan qui bordent la France sont:

- la mer du Nord
- la Manche
- l'océan Atlantique
- la mer Méditerranée

1) C'est une photographie satellite.

2) Les points bleus sont placés sur le littoral français.

*Le littoral c'est la zone de contact entre le continent (la terre) et la mer (ou l'océan).*



# Le littoral français

Nous allons maintenant observer les différents types de côtes du littoral français à travers plusieurs photographies.

# Le littoral français



1) C'est une photo de la côte de Cap Gris-Nez, dans le département du Pas-de-Calais (nord de la France). **On observe des falaises. C'est donc une côte à falaises.**



# Le littoral français



2) C'est une photo des falaises d'Étretat, en Normandie, sur la côte de la Manche. On observe là encore des falaises. C'est donc une côte à falaises.



# Le littoral français



3) C'est une photo de la côte bretonne, sur la côte de la Manche. On y observe **des rochers**. C'est un type de côte différent des deux premières photos. **On parle de côte rocheuse**.

# Le littoral français



4) C'est une photo d'une plage de La Rochelle, sur la côte Atlantique. On observe ici du sable.  
**C'est une côte sableuse.**



# Le littoral français



5) C'est une photo d'une plage d'Hossegor, toujours sur la côte Atlantique. On observe là encore du sable. **Il s'agit donc d'une côte sableuse.**



# Le littoral français



6) C'est une photo d'une plage de Sète, sur la côte Méditerranéenne. On observe du sable. C'est donc le même type de côte que les deux photos précédentes: **une côte sableuse**.

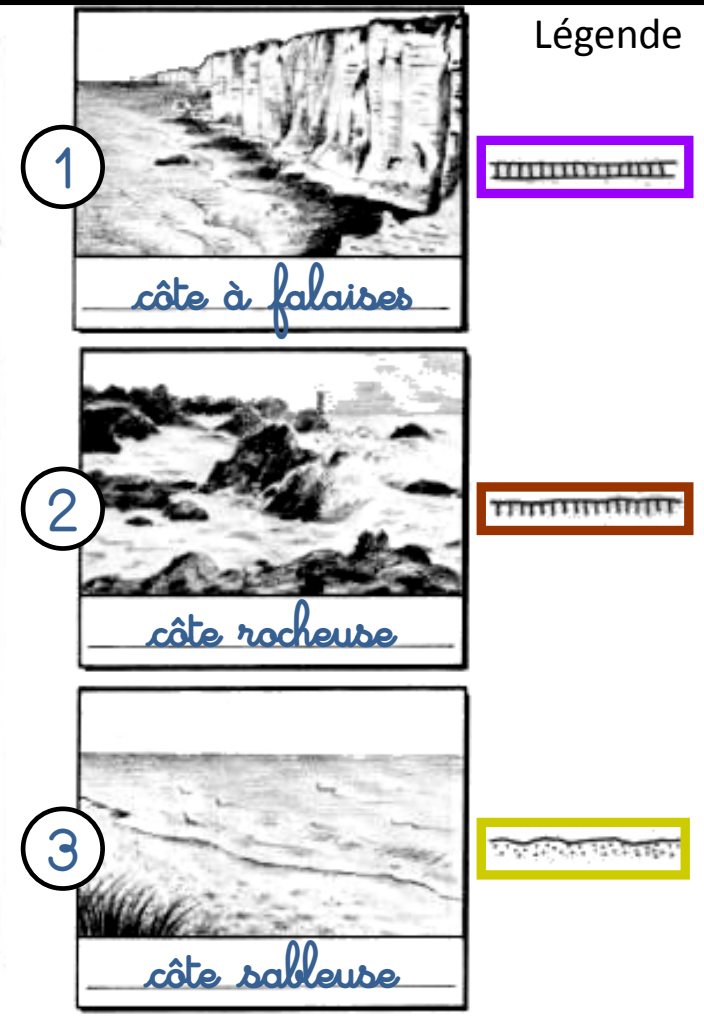
# Le littoral français



7) C'est une photo de la Ramatuelle, sur la côte Méditerranéenne. On y observe des rochers. Il s'agit donc du même type de côte que l'on peut trouver sur la côte de la Manche: **côte rocheuse**.



# Le littoral français



Les falaises d'Étretat



Une plage de Pête



Côte bretonne

# Trace écrite

## Le littoral français

Le **littoral** est la zone de contact entre le continent et la mer (ou l'océan). La France est bordée par trois mers et un océan. Elle a trois types de côtes:

- les **côtes à falaises**
- les **côtes rocheuses**
- les **côtes sableuses**

### Ce que je dois savoir faire

- \* Situer sur la carte de France les trois mers et l'océan qui la bordent.
- \* Ecrire tous ces noms sans erreur !
- \* Connaître les trois types de côtes françaises