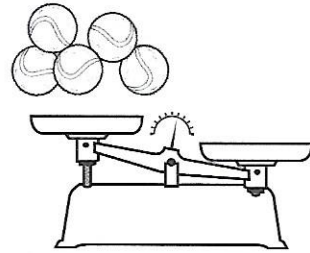
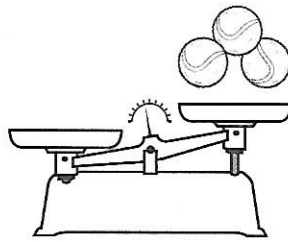
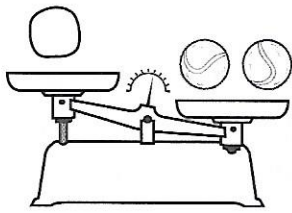


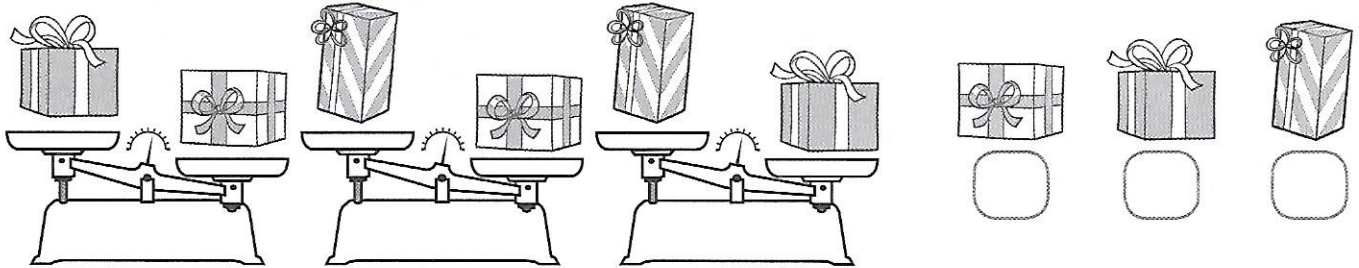
COMPARER DES MASSES

⑤ Dessine des balles de tennis sur chaque plateau vide. Aide-toi de l'exemple.

Exemple :



⑥ Numérote ces cadeaux du plus léger (1) au plus lourd (3).



⑦ Numérote ces masses de la plus légère (1) à la plus lourde (6).



90 g



200 kg



3 kg 250 g



8 kg




300 g



2 kg 300 g

LES MATHS DANS LA VIE

⑧ Marilou va au marché et achète les fruits et légumes suivants :



Quel est le poids total de ces produits ?

.....

.....

.....

.....

.....

.....

DÉFI

⑨ Colorie de la même couleur les deux masses à associer pour obtenir 1 kg. Change de couleur à chaque fois.

Ex : 400 g 600 g

