

ESTIMER DES MASSES

① Pour chaque dessin colorie la bonne étiquette.



15 kg

150 kg

150 g



7 kg

700 g

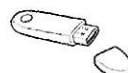
70 g



13 g

130 g

13 kg



100 g

10 kg

10 g



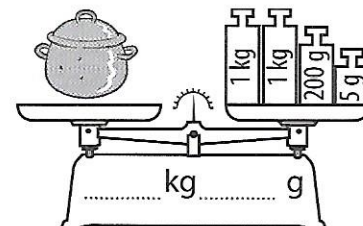
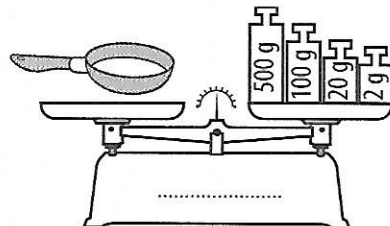
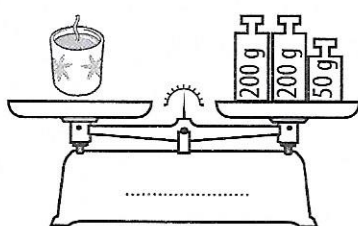
2 kg

2 g

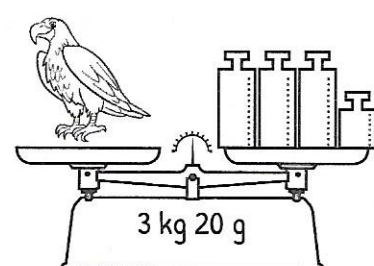
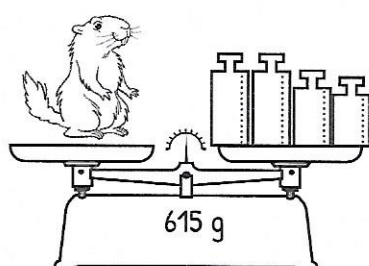

200 g

MESURER DES MASSES

② Écris sur la balance la masse de chaque objet dans l'unité demandée.



③ Écris les masses sur les poids pour obtenir le poids inscrit sur la balance.



④ Écris le poids des deux premières balances et déduis la mesure inscrite sur la balance digitale.

