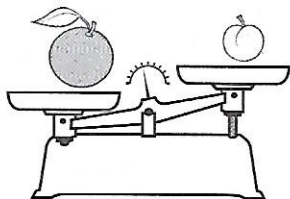
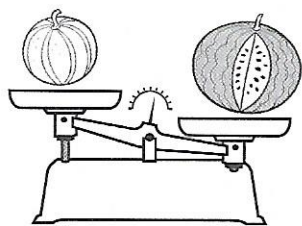





⑤ Entoure l'aliment le plus léger des deux et complète les phrases.



La pastèque est plus ..... que le melon.

L'abricot est plus ..... que l'orange.

⑥ Numérote ces jouets du plus léger (1) au plus lourd (3).



## LES MATHS DANS LA VIE

⑦ Quatre amis décident de se peser et de comparer leur masse.  
Réponds aux questions.


Qui est le plus lourd ? .....

Qui est le plus léger ? .....

Qui pèse 20 kilos de plus que Maïa ? .....

Quelle est la différence de poids entre les deux garçons ? .....

Quelle est la différence de poids entre les deux filles ? .....



## DÉFI

⑧ Colorie en respectant le code couleur « MONDRIAN ».

Bleu

Animal se mesurant en gramme

Rouge

Animal se mesurant en kilogramme

Jaune

Animal se mesurant dans une autre unité

