

Dictée flash du jour

Quand tu as terminé de t'entraîner à écrire les mots de la liste, connecte-toi sur le site <https://www.quiziniere.com/> avec le code donné pour faire la dictée flash du jour en autonomie.

Calcul mental

Les tables de 5 et de 7 doivent être sues.

Calcule sans poser l'opération:

$25+50 = 75$	$125+25 = 150$	$75+25 = 100$
$150+75 = 225$	$75+75 = 150$	$50+75 = 125$
$425+50 = 475$	$625+75 = 700$	$750+75 = 825$

Orthographe : le pluriel des noms

- a. des journaux - des totaux - des cailloux - des poux - des canaux
- b. des cous - des maux - des voyous - des tribunaux - des bijoux
- c. des régals - des choux - des chacals - des hiboux - des carnivals

Lecture compréhension

Ils volettent au printemps dans les jardins. Ils sont de jour ou de nuit. On les chasse avec un filet. Leurs ailes poudrées sont souvent multicolores.

Qui sont-ils ?

Ce sont les papillons.


Corrections du mardi 26 mai 2020 CE2B

Problème du jour

Une ardoise coûte 3 €. Pour sa classe, Madame Benoit achète 26 ardoises.
Combien Mme Benoit va-t-elle payer ?

Je cherche le prix de 26 ardoises.

Comme une ardoise coûte 3€, 26 ardoises coûtent 26 fois 3 euros.



Mme Benoit va payer 78 euros.

Numération

Dans l'ordre décroissant (du plus grand au plus petit):

$$8\ 600 > 8\ 580 > 8\ 560 > 8\ 540 > 8\ 520 > 8\ 500$$

Complète cette bande numérique en ajoutant deux dizaines à chaque case:

Ajouter deux dizaines, c'est ajouter 20 unités.

223

243

263

283

303

323

343

Conjugaison: le futur

elle sera - aura - portera - grossiras - chantera - seras
 nous parlerons - mangeront - serons - auront - regarderont - marcherons
 je / j' serez - serai - chantera - travaillerai - aurai - porterai
 ils auront - aurons - porterons - seront - joueront
 tu seras - aura - parlera - changeras - auras
 vous aurez - chanterez - serez - changera - aurai - serai
 on écouterà - sera - déplaceras - aura - inventeras - regardera

Grandeurs et mesures



Un tracteur pèse
environ 8 **t**...



Une vache pèse
environ 700 **kg**



Un poney pèse
environ 150 **kg**



Une voiture pèse
environ 1 **t**...

Pour mesurer des masses, on utilise le gramme (g), le kilogramme (kg) et la tonne (t).

Tu trouveras la correction de la fiche **JE ME TESTE 2** sur la page suivante.

QLM / espace

Vérifie tes réponses avec la correction proposée dans le document « Les montagnes françaises » puis recopie la trace écrite.

Calculs posés

$$\begin{array}{r} 521 \\ + 247 \\ \hline 768 \end{array}$$

$$\begin{array}{r} 521 \\ - 247 \\ \hline 274 \end{array}$$

$$\begin{array}{r} 52 \\ \times 7 \\ \hline 364 \end{array}$$

$$\begin{array}{r} 52 \\ \times 27 \\ \hline 364 \\ + 1040 \\ \hline 1404 \end{array}$$

LECTURE OFFERTE

Voici le lien qui vous permettra d'accéder à la lecture offerte (épisode 14 du feuilleton de Thésée): <https://is.gd/h8HXYU>

JE ME TESTE 2





Prénom

Date

CONNAITRE LES MESURES DE MASSES

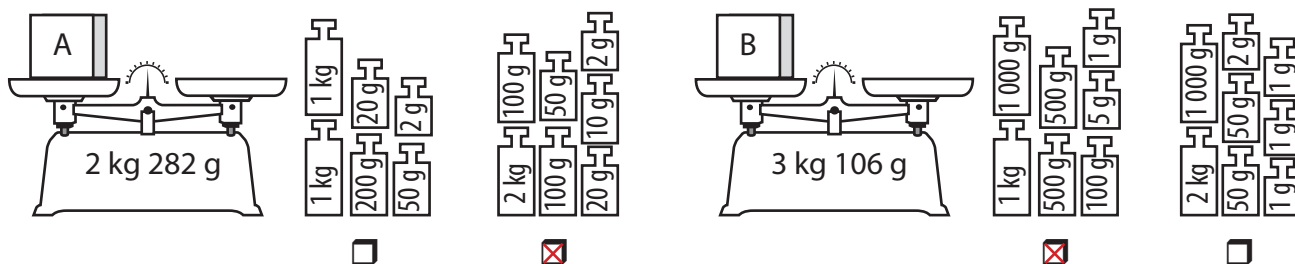
ESTIMER LES UNITÉS DE MASSES

1 **Colorie** l'unité que tu utiliserais pour mesurer ces masses.

			
t kg g	t kg g	t kg g	t kg g

MESURER DES MASSES

2 **Coche** les masses que tu utiliserais pour obtenir l'équilibre.




CONNAITRE QUELQUES UNITÉS DE MASSES USUELLES ET LEURS RELATIONS

3 **Colorie** de même couleur les masses identiques.



1 kg = 1 000 g
1 t = 1 000 kg



COMPARER DES MASSES

4 **Entoure** la plus grande des deux masses proposées.

278 g	398 g	1 500 g	1 kg 800 g	3 t 250 kg	4000 kg
67 kg	68 g	2 kg 300 g	380 g	8 t	800 kg

5 **Classe** ces masses de la plus légère (1) à la plus lourde (6).

1 600 g	97 g	1 kg 800 g	7 g	91 kg	2 500 g
3	2	4	1	6	5