

Jeudi 2 avril 2020

Recopie la date

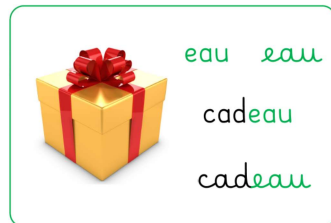
Dictée :

☆ **LECTURE :**

Regarde le film du son «o» sur ta tablette ou ton ordinateur en cliquant sur le lien suivant :

<https://lesfondamentaux.reseau-canope.fr/discipline/langue-francaise/lecture/correspondance-sonvoyelle/decouvrir-le-son-o-et-ses-graphies.html>

Voici les mots repères. Regarde les biens et lis-les.



☆ **REALISE LES EXERCICES SUIVANTS :**

★ 1/ Entoure le dessin si tu entends « O »



★ 2/ Relie chaque image à la syllabe qui correspond



deau reau teau peau meau bleau seau

★ 3/ Relie chaque image au mot qui correspond



dauphin

chaussure

landau

autocar

taupe

autruche

dinosaur

★ 4/ souligne en rouge les mots qui contiennent **au** et en vert ceux qui contiennent **eau**

La peau – l'eau – le chauffage – la faune – le poteau – autour – beaucoup – le seau

★★ 5/ Sépare les mots par un trait puis recopie la phrase.

Elle porte un manteau mauve

★ 6/ copie les mots repères

au

chaussure

eau

cadeau

1. Activité ritualisée


- Ecris en lettres

1 :

2 :

- Pour chaque nombre dessine dans le cadre le bon nombre de dizaines et d'unités

exemple : 13



À ton tour

34



56



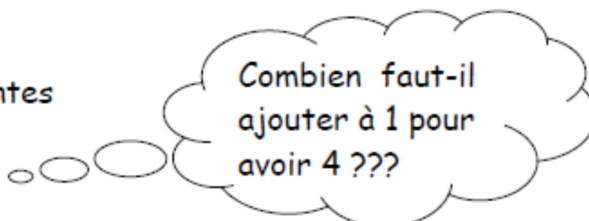
45



2. Calcul mental

Complète les additions suivantes

exemple : $1 + 3 = 4$



N'hésite pas à utiliser des jetons pour t'aider. Si tu n'en as pas demande à un adulte, un grand frère ou grande sœur de te donner des pâtes ou alors découpe des bouts de papier.

À ton tour

$1 + \dots = 6$

$7 + \dots = 10$

$4 + \dots = 9$

$2 + \dots = 11$

3. Résolution de problèmes

A l'aide d'un dessin ou un schéma puis d'un calcul résous le problème suivant :

Tom adore les toupies, il en a 4. Pour son anniversaire, son copain lui en offre 2.
Combien a-t-il de toupies maintenant ?

dessin ou schéma

calcul

phrase réponse

Maintenant, Tom a toupies.

4. Apprentissage :

- Ecriture des nombres en lettres

9

14

10

18

Attention à bien respecter le lignage !

- Pyramide : complète les pyramides

exemple

