





Lundi 30 mars

☆ LECTURE :

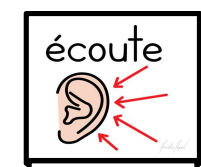
1. Regarde le film du son « an » sur ta tablette ou ton ordinateur en cliquant sur le lien suivant :
<https://www.reseau-canope.fr/lesfondamentaux/discipline/langue-francaise/lecture/correspondance-sonsemi-voyelle/decouvrir-le-son-a771-et-ses-graphies.html>

Voici les mots repères. Regarde les bien et lis les.

 <p>an an manger manger</p>	 <p>am am jambe jambe</p>	 <p>en en dent dent</p>	 <p>em em tempête tempête</p>
----------------------------------------------------------------------------------------------------------------------	--------------------------------------------------------------------------------------------------------------------	------------------------------------------------------------------------------------------------------------------	-------------------------------------------------------------------------------------------------------------------------

2. Réalise ces exercices :

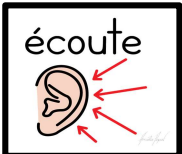
1) Entoure quand tu entends « an / am / en / em ».








[exercice1_an.m4a](#)



2) Mets une croix où tu entends « an / am / en / em ».



[exercice 2_an.r](#)

				
X	X X	X	X	X

3) Entoure dans le mot le graphème indiqué en début de ligne.

en	enfants	ambulance	maman	parents	tente	pente
an	maman	ban	flan	camp	ami	âne
em	embrasser	menu	embarcadère	entonnoir	menton	même
am	ambulance	maman	ampoule	chant	camp	âne

3. Copie les mots

manger

dent

em

tempête

am

jambe

Mathématiques

1. Activité ritualisée

1	2	3	4	5	6	7	8	9	10	11	12	13	14	15	16	17	18	19	20
21	22	23	24	25	26	27	28	29	30	31	32	33	34	35	36	37	38	39	40
41	42	43	44	45	46	47	48	49	50	51	52	53	54	55	56	57	58	59	60

Sur la bande numérique, mets ton doigt sur 25.

Combien faut-il pour aller à 30 ?5.....

Combien faut-il pour aller à 35 ?10.....

Combien faut-il pour aller à 50 ?25.....


Complète le tableau en comptant à rebours de 2 en 2

20	18	16..	14...	12.....	10.....	8.....	6.....	4.....	2.....
----	----	------	-------	---------	---------	--------	--------	--------	--------

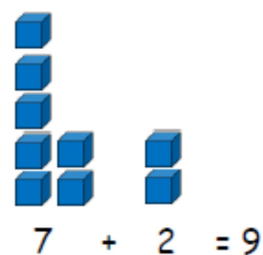
2. Calcul mental

Comment trouver rapidement le résultat de l'addition $27 + 12$?


$$27 + 12$$



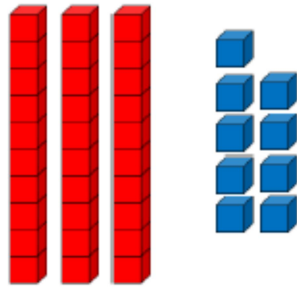
On va regrouper les unités avec les unités puis les compter



On fait pareil avec les dizaines



On obtient donc



3 dizaines et 9 unités

$$27 + 12 = 39$$

À ton tour !

Sans compter sur tes doigts et le plus rapidement possible effectue les calculs suivants :

$13 + 11 = \overset{24}{\dots\dots\dots}$

$21 + 35 = \overset{56}{\dots\dots\dots}$

$44 + 23 = \overset{67}{\dots\dots\dots}$

3. Résolution de problèmes




Consigne problème du 23mars.m4a

A l'aide d'un dessin ou un schéma puis d'un calcul résous le problème suivant :

Dans son jardin, Lulu a planté 5 fleurs roses et 4 fleurs jaunes.
Combien a-t-elle planté de fleurs en tout ?

dessin ou schéma



calcul

$$5 + 4 = 9$$

phrase réponse




Elle a planté 9 fleurs

Pour t'aider tu peux utiliser les fleurs que tu auras découpées.

4. Apprentissage :

Regarde attentivement l'affiche ci-dessous

LE PARC

	ENFANT	ADULTE
	6 €	7 €
	4 €	5 €
	2 €	3 €

Cette affiche indique le prix de plusieurs attractions d'un parc. Il y a la grande roue, le grand 8 et le manège. Le tarif n'est pas le même si tu es enfant ou adulte.

Réponds aux questions :

- Quel est le prix d'une entrée au grand 8 pour un adulte ? 5 €
- Quel est le prix d'une entrée à la grande roue pour un enfant ? 6 €
- Quelle attraction coûte 7€ pour un adulte ? ... La grande roue

Problème :

Combien va payer une famille, la mère, le père et un enfant pour monter sur la grande roue ? Pour t'aider tu peux utiliser les billets et pièces de monnaie que tu auras découpées.

calcul

$$6 + 7 + 7 = 20 \text{ €}$$


phrase réponse

Elle va payer 20 €



★ Lis le petit texte et choisis la bonne réponse.

Le déménagement de Charlotte



C'est rigolo de
déménager. On
range des tas
de choses dans
des caisses. On
monte les caisses
dans un grand
camion rouge.
On ne va pas
à l'école et
on mange des
casse-croûte.

Charlotte

- Ⓐ déménage son école.
- Ⓑ déménage avec un camion rouge.
- Ⓒ n'aime pas déménager.



Lis le petit texte et choisis la bonne réponse.



Nous fêterons **Carnaval**
le mardi 23 mars.

Nous défilerons dans les
rues du village à partir
de 14^h30.

Les parents sont invités
à se déguiser et à venir
avec nous.

Les enfants de l'école

[1] Cette année, on fêtera Carnaval

(A) un dimanche.

(B) un mardi.

(C) un vendredi.

[2] Pour Carnaval,

(A) les enfants invitent leurs parents.

(B) les parents invitent leurs enfants.

(C) les enfants invitent leurs copains.