


Mathématiques — semaine 3 — jeudi

Parents, si vous ne pouvez pas imprimer, prenez quelques minutes pour recopier, dans le cahier noir, les exercices de mathématiques.

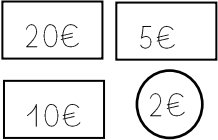
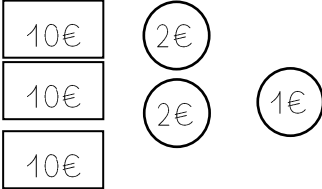
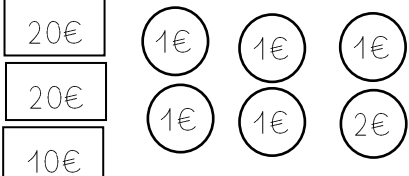
1- Compte de 10 en 10 à partir de 0 jusqu'à 50.

A l'oral, compte de 10 en 10 à partir de 9 et arrête-toi à 59.

2- Observe le modèle en gris et complète le tableau.

39		$30 + 9$	$10 + 10 + 10 + 9$	3d et 9u
34	 +d et ...u
42	 +d et ...u
56	 +d et ...u

4- Calcule la somme de la tirelire de chaque enfant. (écris le résultat sur la feuille ou dans ton cahier noir).

		
Sami a€	Lola a€	Julie a€

Qui a le plus d'argent ?

C'est qui a le plus d'argent.