


1- Compte de 10 en 10.

0 - 10 - **20 - 30 - 40 - 50 - 60 - 70 - 80 - 90**

2- Range les nombres du plus petit au plus grand.

14 - 38 - 24 - 7 - 41 - 12



3- Compare en utilisant le bon signe : < , >

5 **<** 9      10 **<** 14      19 **<** 29      31 **>** 13

37 **<** 39      40 **>** 20      22 **<** 42

41 **<** 44      35 **>** 30      17 **<** 37      34 **>** 21

4- Complète la bande numérique.

22	<b>23</b>	<b>24</b>	25	<b>26</b>	<b>27</b>	<b>28</b>	29	<b>30</b>	<b>31</b>	<b>32</b>	<b>33</b>	<b>34</b>	<b>35</b>
----	-----------	-----------	----	-----------	-----------	-----------	----	-----------	-----------	-----------	-----------	-----------	-----------

5- Calcule.

5 + 2 = **7**      9 + 1 = **10**      6 + 3 = **9**      4 + 4 = **8**

30 + 20 = **50**      20 + 40 = **60**      30 + 10 = **40**      10 + 10 = **20**


20 + 3 = **23**      30 + 5 = **35**      10 + 7 = **17**      40 + 2 = **42**

12 + 5 = **17**      24 + 2 = **26**      39 + 1 = **40**      18 + 3 = **21**

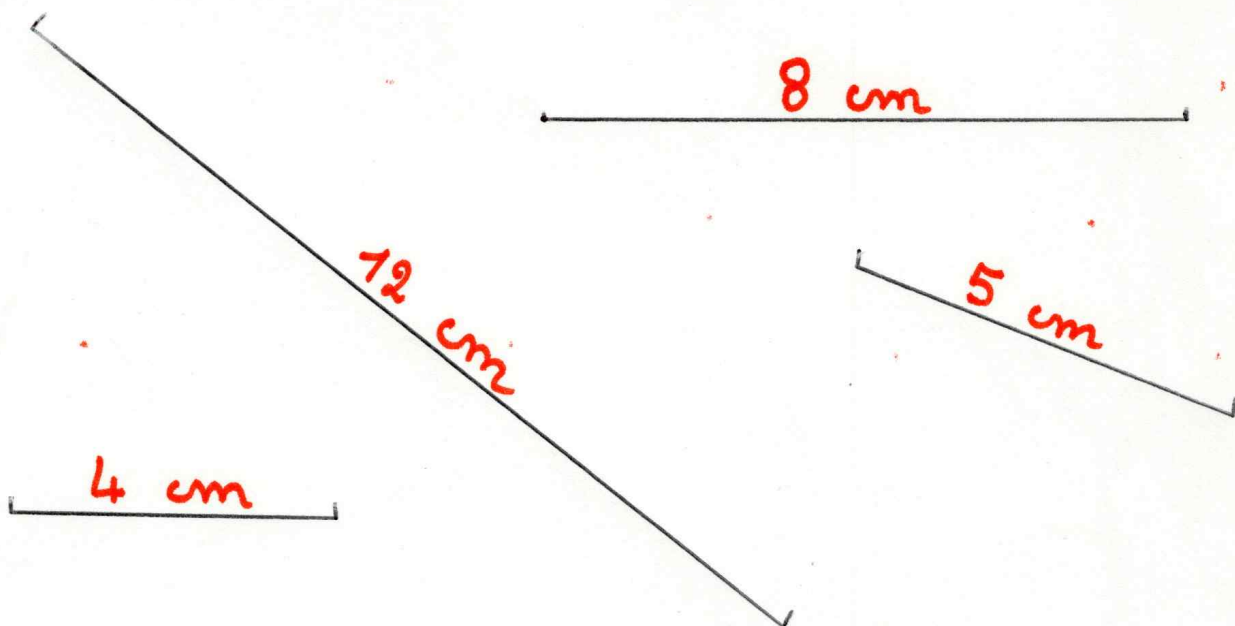
5 - 3 = **2**      8 - 1 = **7**      3 - 2 = **1**      10 - 3 = **7**

10 - 1 = **9**      20 - 2 = **18**      39 - 2 = **37**      26 - 2 = **24**

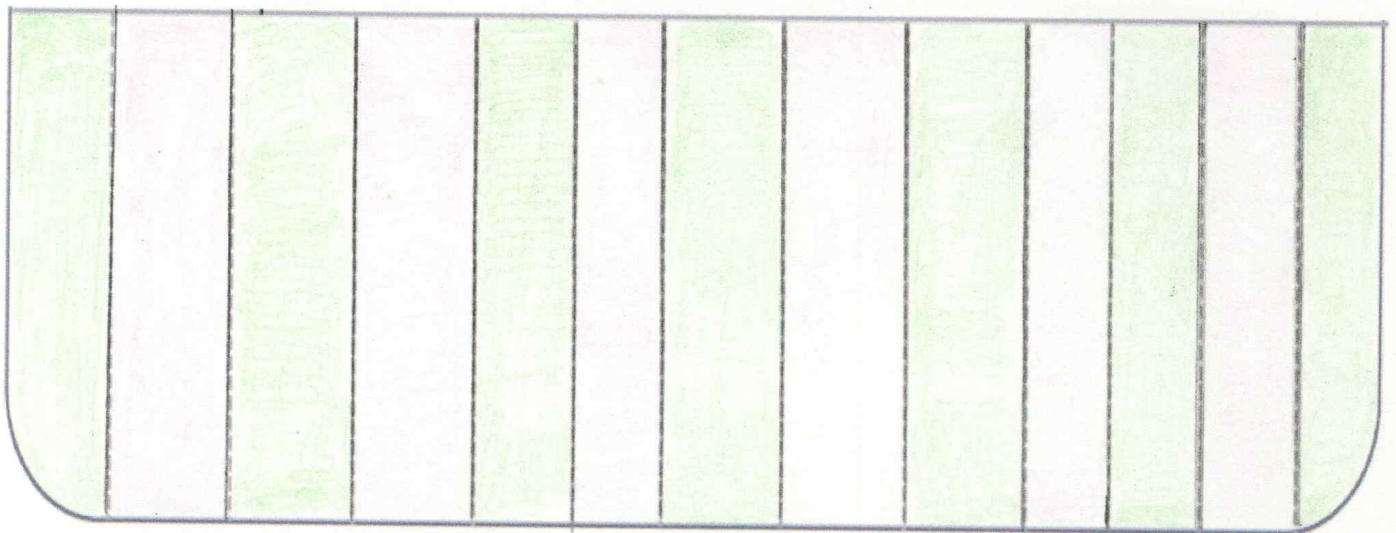
6- Compte en faisant des paquets de 10.



7- Mesure les traits et écris la mesure.



8- Avec ta règle et un crayon à papier (ou critérium), repasse les lignes pointillées. Puis, colorie soigneusement sans appuyer avec un crayon à couleur en changeant de couleurs pour chaque bande.

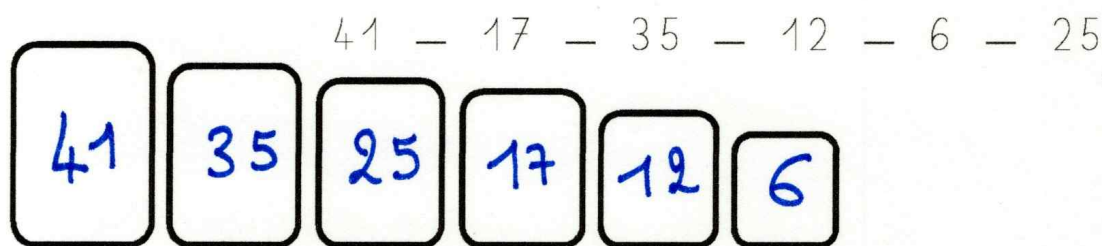




1- Compte de 10 en 10.

7 - 17 - 27 - 37 - 47 - 57 - 67 - 77 - 87 - 97

2- Range les nombres du plus grand au plus petit.



3- Compare en utilisant le bon signe : < , >

4 < 7      12 < 14      41 > 31      22 < 24

24 < 42      30 > 20      10 < 20

35 < 45      20 < 27      42 > 37      43 > 34

4- Complète les bandes numériques.

10	11	12	13	14	15	16	17	18	19	20	21	22	23
----	----	----	----	----	----	----	----	----	----	----	----	----	----

24	25	26	27	28	29	30	31	32	33	34	35	36	37
----	----	----	----	----	----	----	----	----	----	----	----	----	----

5- Calcule.

7 - 5 = 2      12 - 1 = 11      23 - 2 = 21      20 - 3 = 17

10 - 2 = 8      30 - 2 = 28      49 - 1 = 48      16 - 2 = 14

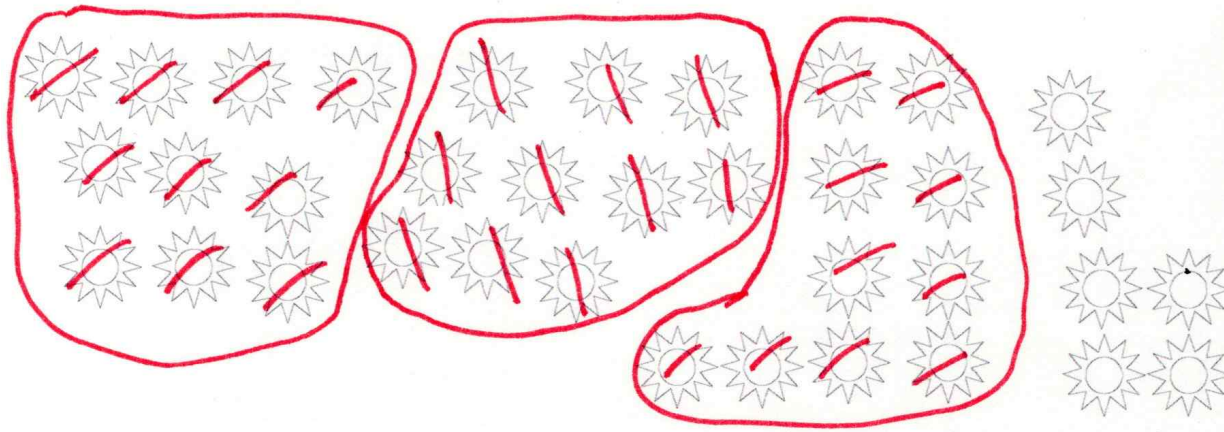
15 + 2 = 17      19 + 1 = 20      26 + 3 = 29      3 + 4 = 7

20 + 20 = 40      10 + 40 = 50      20 + 10 = 30      30 + 12 = 42

40 + 7 = 47      20 + 6 = 26      30 + 1 = 31      10 + 9 = 19

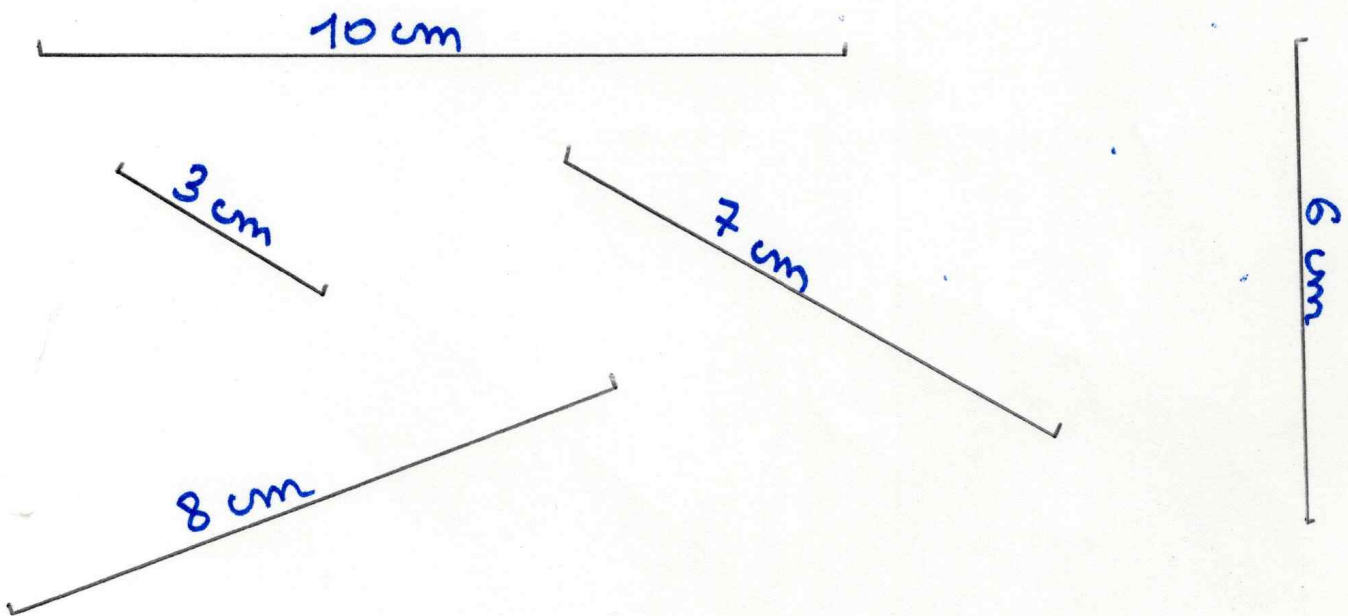
14 + 5 = 19      24 + 2 = 26      39 + 1 = 40      18 + 3 = 21

6- Compte en faisant des paquets de 10.



d	u
3	6

7- Mesure les traits et écris la mesure.



8- Avec ta règle, repasse les lignes en pointillés. Puis, continue les frises.

