

Lecture « la guerre des poils »

Lire le chapitre 12.

Dans le premier paragraphe, l'auteur décrit une scène où il y a beaucoup de monde. Quels sont les mots choisis par l'auteur pour faire ressentir au lecteur cette foule ?

.....
.....
.....

Hugo semble hypnotisé à la vue des grandes oreilles de Big Raseur, à ton avis que ressent-il ?

.....
.....

Lorsqu'Hugo est aperçu par Big Raseur et qu'il répond en disant qu'il est reporter «au journal des écoliers », de quoi fait-il preuve ?

.....

Lorsque Big Raseur demande à Hugo ce qu'on pense de lui dans les établissements scolaires, Hugo répond-il la vérité ?

Pourquoi?

.....
.....
.....

Le plan des bonbons au Poussvit s'est-il parfaitement bien déroulé ? Quel est le résultat pour Big Raseur?

.....
.....
.....

Trouve un synonyme (*un mot qui veut dire la même chose et qui ne s'écrit pas pareil, deux synonymes sont de la même classe grammaticale*) pour ces mots :

(utilise le dictionnaire)

plaît-il :

tohu-bohu :

inintelligible :

Fichiers maths

Idem.

Français

Les vacances vont durer deux semaines. J'aimerais qu'une fois par semaine (donc deux fois par sujet puisque deux semaines) tu écrives quelques lignes sur ces sujets.

- L'événement qui a été pour toi le plus important de la semaine.
- Le jeu préféré auquel tu as joué.
- Le repas que tu as préféré.
- L'activité que tu as adoré pratiquer.
- La chose qui t'a le plus déplu de la semaine.

Ou alors tu peux tenir un journal de vacances, cependant pour cela il faut être plus régulier (une fois par jour).

Ecris d'abord au brouillon, puis recopie au propre sur un de tes cahiers. (De préférence le dernier que je vous avais fourni, le « petit ».)

L'enjeu sera ici de garder un lien avec l'écriture. ...écriture... voilà un mot véritablement polysémique...

Qui saura retrouver dans un premier temps ce que veut dire polysémique ? (coupe le mot en deux avec un trait rouge.)

Polysémie



.....

Dans un deuxième temps, qui saura me donner le plus de sens du mot écriture ?

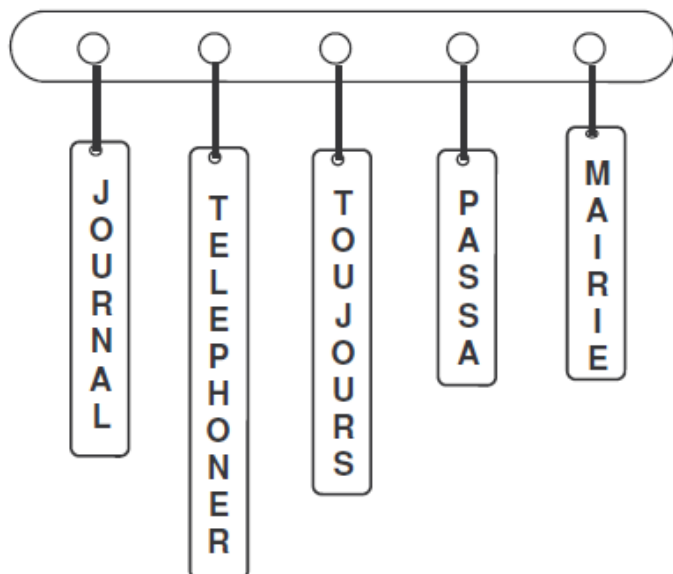
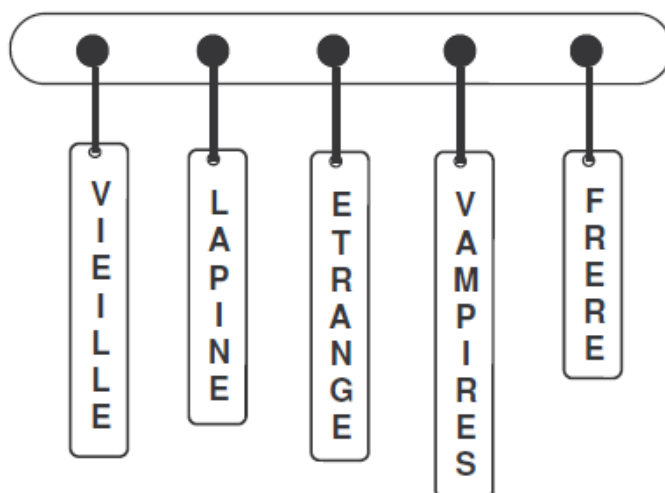
-
-
-
-
-
-
-
-

Exercices de lecture

Complète chaque texte avec les mots situés dans le portemanteau situé à côté.

LE MYSTÈRE DU CASTEL (1)

Claudine était une fille 12 ans qui croyait aux fantômes, aux zombies et aux Elle était grande, châtain aux yeux bleus. Claudine habitait dans une maison, à côté d'une grande forêt. Elle y vivait avec ses parents, un petit de 5 ans, Pierre, et une nommée Fantômette. Elle adorait les films d'horreur. Un jour, elle apprit qu'il y avait eu une mort au village ...

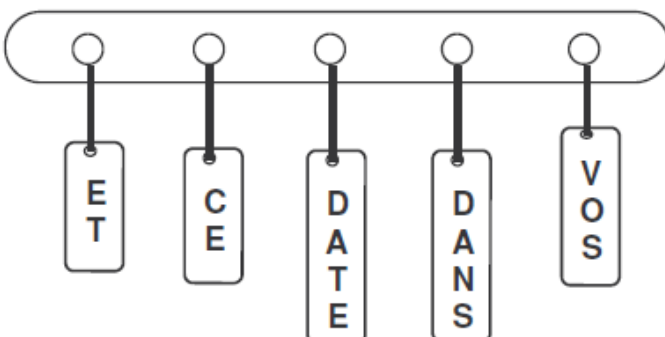


Claudine commença par à la gendarmerie : RIEN ! Puis, à la : ENCORE RIEN !

Déçue, elle alluma la télé pour voir les infos : RIEN ! Elle se jeta sur son PC mais curieusement il n'y avait pas de connexion. Claudine devant la table de la salle à manger et fit tomber le En le ramassant elle y jeta un coup d'œil et aperçut un titre : « SOIR D'HALLOWEEN : une mort étrange. »

Claudine regarda la : novembre 2010 . Elle ouvrit vit :

« Mme Loupiot a été retrouvée en pleine nuit d'Halloween, près d'une grande forêt appelée la Rose des Champs. Elle avait deux trous la gorge et une citrouille sur la tête. drame perturbe toute la ville de Florette. La police vous conseille de ne pas sortir de maisons. »



Dans chaque liste, entoure le mot qui a le même sens que le mot souligné.

voiture

chalumeau
crayon
style
véhicule
trompette
arrosoir
citron
girafe
sport

roue
banque
inconnu
faiblesse
cuisine
ménagerie
joujou
bazar
ouvrage
fatigue

sang
tribunal
vieux
boulangier
avoir
chacun
forgeron
partir
grandir
filer

train
bataille

écolier
fidèle
affrontement
docteur
avertir
hiver
inspecteur
escalier

tordre
monstre
peu
cimetière
abondance
quantité
calmer
moyenne
attachement
échantillon

embellir
voilier
barricade
plaintif
ignorant
obstacle
fixer
cordial
graisse
influence

viande
caisse
net
infirmes
soif
bœuf
foire
handicapé
parfaitement
minuscule

cependant
pendant
autant
avant
pourtant
devant
savant
antan
suivant
plaisant

rechercher
arbitre
vallée
puissance
bloc
justice
contraire
canyon
urgent
renoncule

Géométrie

Tu vas devoir tracer des figures géométriques. Pour cela tu dois avoir une feuille blanche, une règle graduée, une équerre, un compas, un crayon à papier bien taillé et une gomme.

Sur cette feuille trace :

- Un carré que tu nommeras ABCD qui fait 6 cm de côté. (une lettre est écrite à côté de chaque sommet)
- Un rectangle **CDEF**, qui a un côté en commun avec le carré ABCD, qui fait 4 cm de large.
- Trace les deux diagonales du carré, elles se coupent au point que tu nommeras G.
- Trace les deux diagonales du rectangle, elles se coupent au point H.
- Trace la droite (GH). Cette droite (GH), si ta construction est précise, doit être parallèle aux droites (AE) et (BF).

Vérifie si ta construction est juste avec ce schéma.

