


Fiche pour se corriger à la maison

Le travail 1) à 4) sera corrigé lorsque vous pourrez me rendre les pochettes, car c'est un travail qui nécessite une correction adaptée à chaque enfant.



① Entoure tous les verbes qui s'accordent avec le pronom personnel sujet.

elle avait - décorait - regardaient - étais - chantait - coupait
nous habitions - fêtais - allumions - déposait - passions
je déposais - décorait - balayait - chantais - passais
ils avaient - avait - invitaient - parlais - étaient
tu sautais - aidais - étais - invitait - habitais
vous chantiez - racontaient - décoriez - parlais - coupiez
on préparait - aimait - étais - avait - écoutais

2. Écris un pronom personnel sujet qui peut s'accorder avec le verbe.

Il / Elle / On allumait la buche le soir de Noël.

Ils / Elles chantaient devant la cheminée.

Je / Tu décorais la buche avec des rubans.

Nous invitions les pauvres gens à manger avec nous.

Tu / J' étais très jeune en ce temps-là.

8) Regarde bien où se trouvent les retenues.

Si tu n'as pas compris la soustraction, regarde à nouveau cette vidéo :

<https://www.reseau-canope.fr/lesfondamentaux/discipline/mathematiques/operations/calcul-pose-de-soustractions/soustraire-des-entiers-avec-retenue-methode-par-cassage-12.html>

Si tu n'as pas compris la multiplication 2 chiffres, regarde à nouveau cette vidéo :

<https://www.reseau-canope.fr/lesfondamentaux/video/multiplier-par-un-nombre-a-2-chiffres.html>

8)
$$\begin{array}{r} 458 \\ - 325 \\ \hline 133 \end{array}$$

$$\begin{array}{r} 26 \\ \times 25 \\ \hline 130 \\ + 520 \\ \hline 650 \end{array}$$

$$\begin{array}{r} 6756 \\ + 546 \\ \hline 7302 \end{array}$$


9) $45 - 20 = 25$
Il lui en reste 25.

Pour le 10)

- Je prends ma règle graduée. Je pose ma pointe de crayon sur le 0. Je trace un petit trait.




- Je trace ensuite mon segment en m'arrêtant à 6 cm.



- Et je continue de tracer mon segment en comptant les 5 mm (petits traits sur ma règle).



- Je trace mon autre petit trait pour fermer mon segment.



- J'ai ainsi tracé mon segment de 6 cm et 5 mm.

