

Chers parents,

Voici la correction de la semaine 3 de travail. N'hésitez pas à m'envoyer le travail de votre enfant par mail.

Bien Cordialement

La maîtresse

Lundi 30 mars : écrire la date

4) Loïc est dans sa douche ou son bain.

5)

1 Entoure tous les verbes qui s'accordent avec le pronom personnel sujet.

elle	disait	voyait	allait	voulait	prenait	venais
nous	pouvions	disions	voyions	faisais	venions	
je	faisais	voyais	prenais	voyaient	disais	
ils	voyaient	voulait	prenaient	voulaient	faisaient	
tu	faisais	disais	prenais	voyais	prenait	
vous	disiez	veniez	faisiez	voyiez	vouliez	
on	voyaient	faisait	voyait	disais	voulait	

2. Écris un pronom personnel sujet qui peut s'accorder avec le verbe.

Il / Elle / On... disait des poèmes devant toute la famille.

Il / Elle... faisaient des jeux avec leurs cousins.

Je / Tu... venais chez mes grands-parents à chaque Noël.

Quand *nous*... voyions danser les étincelles, *nous*... étions émerveillés.

8)
$$\begin{array}{r} 5699 \\ + 122 \\ \hline 5821 \end{array}$$

9)
$$\begin{array}{r} 256 \\ \times 3 \\ \hline 768 \end{array}$$

10)
$$\begin{array}{r} 1256 \\ - 931 \\ \hline 325 \end{array}$$

9) $38 - 16 = 22$

J'ai 22 têtes brulées.

Pour le 10)


1- Je place mon crayon sur le 0 de ma règle graduée.



2- Je trace mon rayon de 5 cm.



3- Je trace ma petite croix (centre du cercle), sur l'une ou l'autre extrémité du segment.
Je place la pointe de mon compas sur une extrémité et la mine de mon compas sur l'autre.



- 4- Je trace mon cercle.
Je tiens bien mon compas par le haut (et non par les branches).
Je fais tourner ma main (et non pas la feuille).



- 5- Je pique la pointe de mon compas sur le centre de mon cercle.
Pour que mon 2^{ème} cercle soit plus petit, je place la mine de mon compas à l'intérieur de mon 1^{er} cercle.
Et je trace le 2nd cercle.



- 6- Voici le résultat.



Attention, il peut y avoir une multitude de bonnes réponses.

Ton résultat est juste si :

- Ton premier cercle a un rayon de 6 cm.
- Ton deuxième cercle est plus petit que le premier.

Mardi 31 mars : écrire la date

3) Zala est dans la cuisine.

4)

3. Dans ce texte, complète les verbes avec les terminaisons correctes de l'imparfait.

Quand nous étions enfants, nous pren. ions... le train pour aller chez nos grands-parents.

Nous pass. ions... les vacances avec nos cousins.

Nous voul. ions... tous décorer le grand sapin du salon.

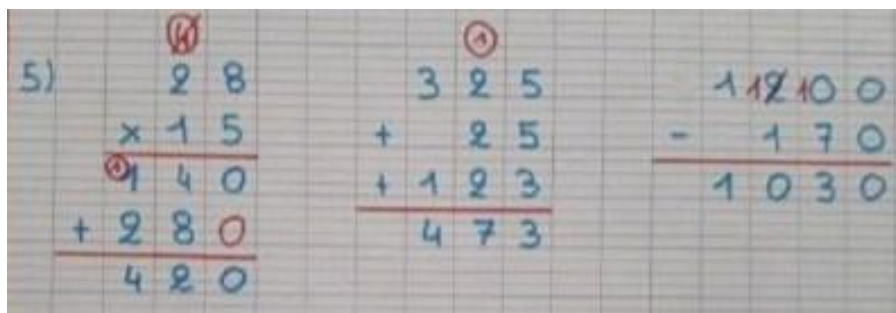
Je pren. ais.... les guirlandes pour m'en faire des colliers !

Grand-mère s'occup. ait..... de faire des truffes au chocolat.

De temps en temps, elle ven. ait..... nous voir et elle dis. ait..... : « Quel beau sapin nous allons avoir ! »

4. Récris les formes conjuguées en changeant de personne.

tu disais	→ vous <u>disiez</u>	je venais	→ tu <u>venais</u>
elle faisait	→ elles <u>faisaient</u>	nous voulions	→ on <u>voulait</u>
je voyais	→ nous <u>voyions</u>	ils disaient	→ il <u>disait</u>
il prenait	→ ils <u>prenaient</u>	tu voyais	→ vous <u>voyiez</u>



6) $50 \times 3 = 150$

$10 \times 3 = 30$

$150 + 30 = 180$

Louise a 180 centimes, 1 euro 80 ;

Pour le 7)

- Je pose la mine de mon crayon sur le 0 de ma règle graduée. Je trace un petit trait.



- Je trace mon segment en allant jusqu'à 7 cm.



- Je continue de tracer mon segment en comptant les 3 mm (petits traits sur ma règle).
Je fais un autre petit trait pour fermer mon segment.

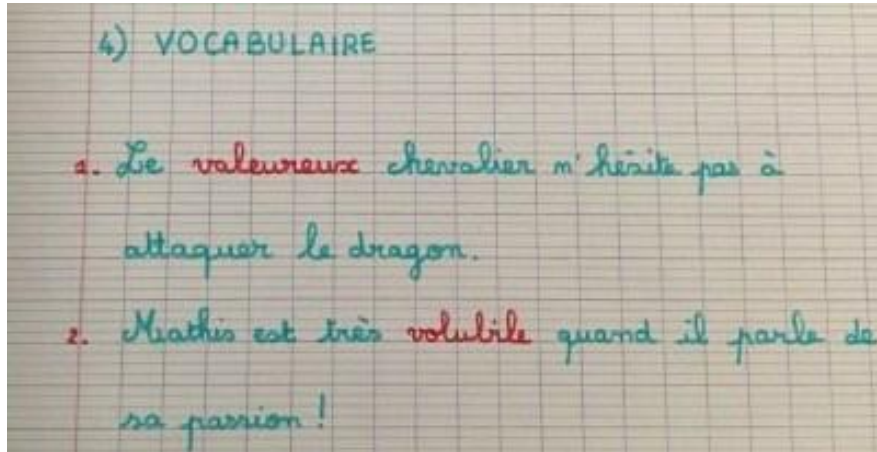


- J'ai ainsi tracé mon segment de 7 cm et 3 mm.



Jeudi 2 avril : écrire la date

3) Adèle est un chat. C'est le mot miaulant qui aide à trouver la bonne réponse.



5)



6) $45 + 70 = 115$

Tom avait 115 euro au départ.

7)

J'ouvre mon compas à 8 cm en piquant bien sur 0 cm.




Je pique mon compas sur le centre du cercle que j'ai tracé au crayon à papier.



Je trace mon cercle de 8 cm de rayon.

Je trace aussi le centre de mon deuxième cercle sur mon premier cercle (là où je veux, mais sur le cercle) au crayon à papier. Ici, je l'ai fait en rouge pour que tu le voies bien.




J'ouvre mon compas à une mesure plus petite que 8 cm : 7cm, 5cm, 2cm... A toi de choisir !

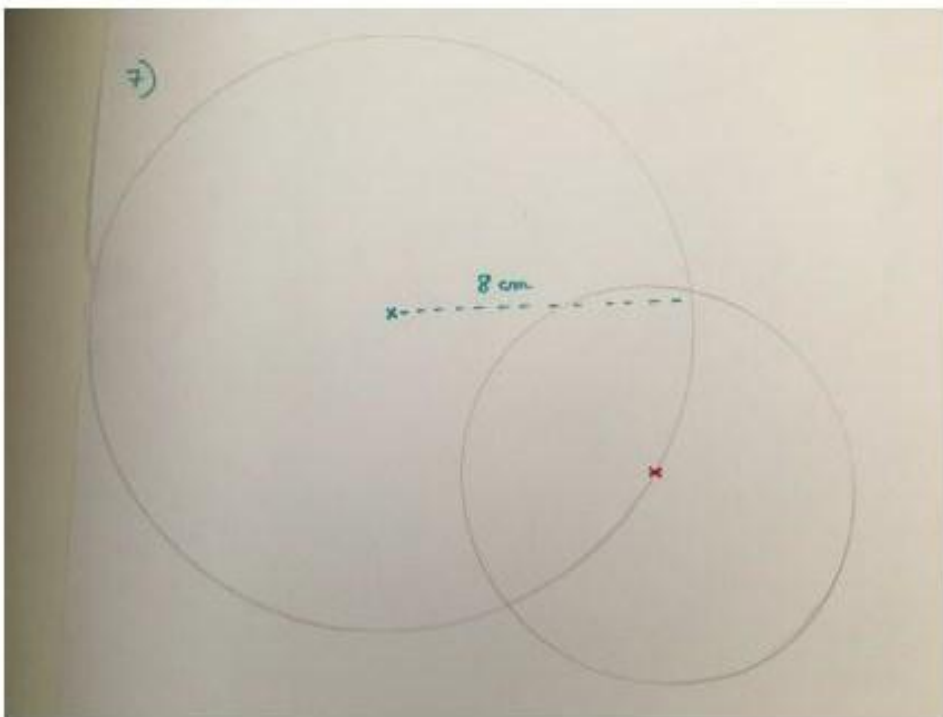
Mais attention, elle doit être plus petite.



Je pique mon compas sur le centre de mon cercle (ici en rouge pour que tu le voies bien).



Je trace mon deuxième cercle et c'est terminé. Bravo !



Vendredi 3 avril : écrire la date

2) Cette scène se passe la nuit. Ce sont les mots « étoilé » et « lune » qui permettent de trouver la réponse.

3)



6)




7) $6 \times 8 = 48$

Il y a 48 bonbons en tout.

Pour le 8)


1. Je trace un segment quelconque (peu importe la longueur).



2. Je place un côté de mon équerre le long du segment que je viens de tracer. Et je trace un 2nd segment.

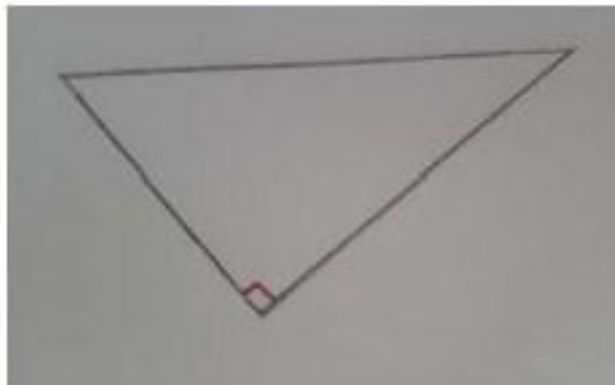


3. Je relis les deux segments pour fermer mon triangle.



4. Et voici mon triangle rectangle.

Je n'oublie pas de noter l'angle droit.



Attention, il existe une multitude de bonnes réponses.

Ton résultat est juste si :

-Tu as 3 côtés.

-Tu as un angle droit.