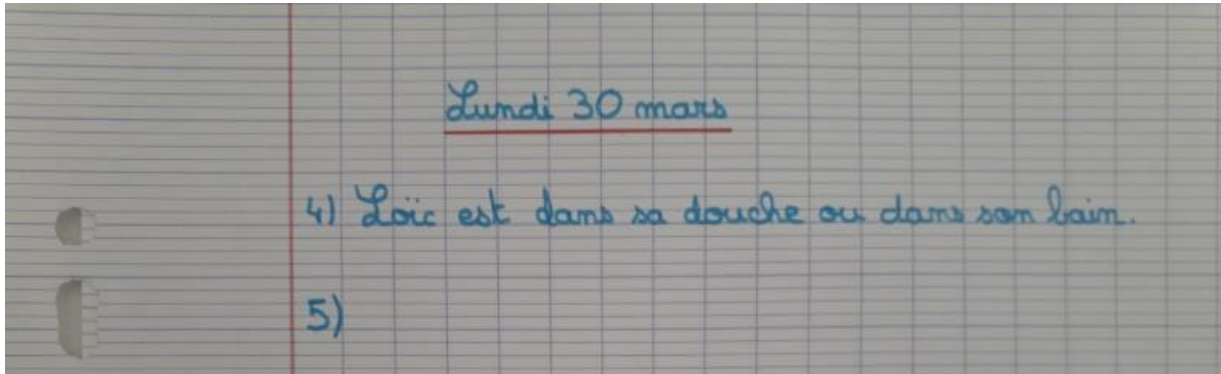


Fiche pour se corriger à la maison

Le travail 1) à 3) sera corrigé lorsque vous pourrez me rendre les pochettes, car c'est un travail qui nécessite une correction adaptée à chaque enfant.



❶ Entoure tous les verbes qui s'accordent avec le pronom personnel sujet.

elle	disait	voyait	allait	voulait	prenaient	venais
nous	pouvions	disions	voyions	faisais	venions	
je	faisais	voyais	prenais	voyaient	disais	
ils	voyaient	voulait	prenaient	voulaient	faisaient	
tu	faisais	disais	prenais	voyais	prenait	
vous	disiez	veniez	faisiez	voyiez	vouliez	
on	voyaient	faisait	voyait	disais	voulait	

2. Écris un pronom personnel sujet qui peut s'accorder avec le verbe.

Il / Elle... / On... disait des poèmes devant toute la famille.

Ils / Elles faisaient des jeux avec leurs cousins.

Je / Tu venais chez mes grands-parents à chaque Noël.

Quand*nous*... voyions danser les étincelles,*nous*... étions émerveillés.

8) Regarde bien où se trouvent les retenues.

Si tu n'as pas compris la soustraction, regarde à nouveau cette vidéo :

<https://www.reseau-canope.fr/lesfondamentaux/discipline/mathematiques/operations/calcul-pose-de-soustractions/soustraire-des-entiers-avec-retenue-methode-par-cassage-12.html>

Si tu n'as pas compris la multiplication 2 chiffres, regarde à nouveau cette vidéo :

<https://www.reseau-canope.fr/lesfondamentaux/video/multiplier-par-un-nombre-a-2-chiffres.html>

8)
$$\begin{array}{r} 5699 \\ + 122 \\ \hline 5821 \end{array}$$
 (Carries: 1, 1)

$$\begin{array}{r} 256 \\ \times 3 \\ \hline 768 \end{array}$$
 (Borrows: 1, 1)

$$\begin{array}{r} 1256 \\ - 931 \\ \hline 325 \end{array}$$
 (Borrow: 1)


9) $28 + 35 = 63$
Alex a 63 euros.

Pour le 10)


1- Je place mon crayon sur le 0 de ma règle graduée.



2- Je trace mon rayon de 5 cm.




3- Je trace ma petite croix (centre du cercle), sur l'une ou l'autre extrémité du segment.
Je place la pointe de mon compas sur une extrémité et la mine de mon compas sur l'autre.



4- Je trace mon cercle.

Je tiens bien mon compas par le haut (et non par les branches).

Je fais tourner ma main (et non pas la feuille).



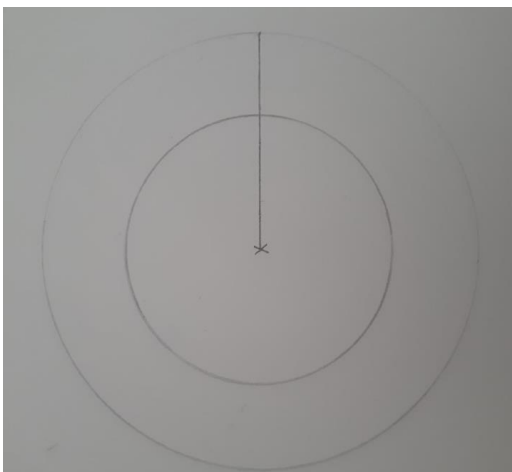
5- Je pique la pointe de mon compas sur le centre de mon cercle.

Pour que mon 2^{ème} cercle soit plus petit, je place la mine de mon compas à l'intérieur de mon 1^{er} cercle.

Et je trace le 2nd cercle.



6- Voici le résultat.



Attention, il peut y avoir une multitude de bonnes réponses.

Ton résultat est juste si :

-Ton premier cercle a un rayon de 6 cm.

-Ton deuxième cercle est plus petit que le premier.