


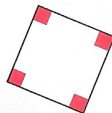
Le carré (2)



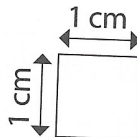
Compétence : Construire un carré en connaissant la longueur des côtés.



Un carré a :




4 angles
droits



4 côtés de même
longueur



1 Trace un carré de 6 cm de côté en te servant du quadrillage.



2 Complète le carré en te servant du papier pointé.



3 Dessine un carré de même mesure que le carré rouge dans le quadrillage de droite.



Calcul mental : Résoudre des problèmes additifs et soustractifs sur la monnaie. Ex. : « Luna achète un livre 15 €. Elle donne 20 €. Combien la libraire va-t-elle lui rendre ? » « Théo achète un CD 26 €. Il donne 30 €. Quelle somme le vendeur va-t-il lui rendre ? »