



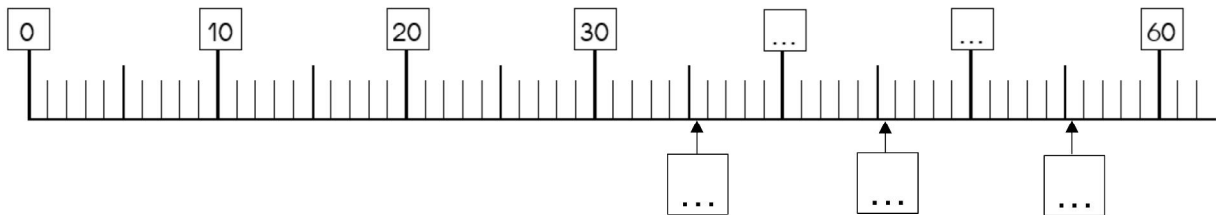
Objectif : Connaitre les nombres entre 0 et 79	M20 S2 devoirs
--	-------------------

 Avec les mots suivants : DIX – QUATRE – SOIXANTE – NEUF ; écris deux nombres en lettres et en chiffres :



Objectif : La droite graduée	M20 S2
------------------------------	--------

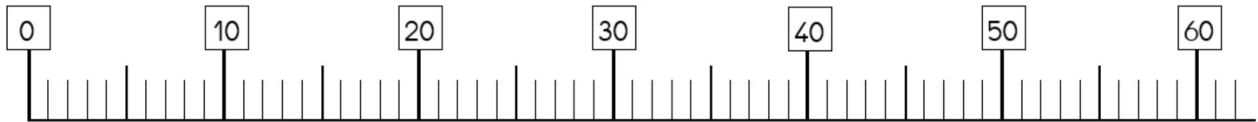
 Ecris les nombres 40 et 50 :



 Place, dans les étiquettes, les nombres 35, 45, 55.



Place, à l'aide de flèches, les nombres 52, 48, 56, 34, 39 :

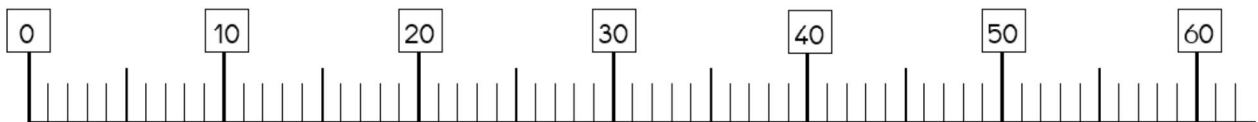


Range les nombres dans l'ordre croissant (du plus petit au plus grand).

..... < ..... < ..... < ..... <.....



Place, à l'aide de flèches, les nombres 34, 49, 53, 44, 56 :



Range les nombres dans l'ordre décroissant (du plus grand au plus petit).

..... > ..... > ..... > ..... >.....