

| | ACTIVITÉS | COLLECTIF | INDIVIDUEL |
|----------------|-----------------------------------|-----------|-----------------|
| Calculs dictés | Répertoire additif | ✓ | Exercice 1 |
| Entretien | Valeur positionnelle des chiffres | | Exercices 2 & 3 |
| Apprentissage | Sommes de dizaines | ✓ | Exercice 5 |


Date : _____

Calculs dictés


1 a b c d e f

Problèmes


2 Lisa veut 46 timbres.
Barre les carnets et les timbres en trop.



3 Alex veut 57 timbres.
Dessine les carnets et les timbres qui manquent.



4 Alex a 75 images.
Il donne 3 paquets de 10 images à Lisa.
Combien lui reste-t-il d'images ?
Il lui reste 45 images.






Sommes de dizaines

80 = 40 + 40 + 0
 = 50 + 30 + 0
 = 50 + 20 + 10
 = 40 + 40 + 0
 = 40 + 30 + 10

70 = 40 + 30 + 0
 = 40 + 20 + 10
 = 30 + 20 + 20
 = 30 + 30 + 10

5 Entoure en bleu une carte prise à chacun. Le total des 3 cartes doit être égal à 80.
Entoure en vert une carte prise à chacun. Le total des 3 cartes doit être égal à 70.

| | | | | | | |
|---|--------------------------------|---------------------------------|---------------------------------|---------------------------------|---------------------------------|---------------------------------|
|  | <input type="text" value="0"/> | <input type="text" value="10"/> | <input type="text" value="20"/> | <input type="text" value="30"/> | <input type="text" value="40"/> | <input type="text" value="50"/> |
|  | <input type="text" value="0"/> | <input type="text" value="10"/> | <input type="text" value="20"/> | <input type="text" value="30"/> | <input type="text" value="40"/> | <input type="text" value="50"/> |
|  | <input type="text" value="0"/> | <input type="text" value="10"/> | <input type="text" value="20"/> | <input type="text" value="30"/> | <input type="text" value="40"/> | <input type="text" value="50"/> |

plusieurs réponses possibles