


Je fais le bilan

1 Alex veut 100 perles.
Combien de boîtes doit-il prendre ?




10 boîte de 10 perles

$10 \times 10 = 100$

2 Complète la commande.

3 cartes de 100 perles.
6 cartes de 10 perles.
..... perles seules.



3 Entoure deux ou trois nombres pour obtenir une somme égale à 100.


Trouve 4 solutions différentes.

10	20	30	60	80
30	40	50	60	
10	20	40	70	
10	20	30	60	80

4 Observe les quatre dessins affichés au tableau.

Écris le numéro de la position indiquée par le maître ou la maîtresse :

Explique ce que l'on voit de cette position :



Quel dessin correspond à ce que l'on voit de cette position ?