

Problèmes: utilise un dessin pour compter.

Enzo achète 3 pochettes de vignettes de collection.
Il y a 5 vignettes dans chaque pochette.
Combien de vignettes Enzo a-t-il acheté ?

Entoure le dessin qui permet de compter toutes les vignettes

Dessin A




Dessin B



Dessin C



Complète.

Enzo a acheté vignettes  de collection.

Problèmes: utilise un dessin pour compter.

Izia fait 2 piles de livres.


Chaque pile a 5 livres.

Combien a-t-elle empilé de livres ?

Termine le dessin.


Complète.

Izia a empilé livres 




Problèmes: utilise un dessin pour compter.


Tom veut ranger ses 20 feutres dans des boîtes.
Chaque boîte peut contenir 5 feutres.
Combien de boîtes Tom va-t-il utiliser
pour ranger tous ses feutres ?



Dessine tous les feutres  de Tom, puis représente les boîtes .



Complète la réponse.

Tom va utiliser boîtes .

Problèmes: utilise un dessin pour compter.

Le papa de Gabriel achète 3 paquets de yaourts.
Chaque paquet contient 6 yaourts.
Combien de yaourts le papa de Gabriel a-t-il achetés ?



Fais un dessin représentant le problème.



Complète la réponse.

Le papa de Gabriel a acheté yaourts .