

# Partager

1) Complète les phrases

a

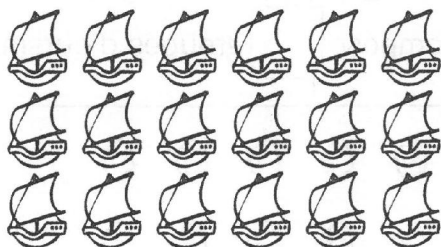
Il y a 10 enfants.  
Regroupe -les par groupes de 2.



Il y a  groupes de 2 enfants.

b


Il y a 18 bateaux.  
Regroupe -les par groupes de 3.



Il y a  groupes de 3 bateaux.

c


Il y a 24 poires.  
Regroupe -les par groupes de 4.



Il y a  groupes de 4 poires.

2) Complète les phrases

a


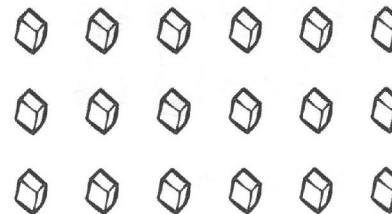


Mélanie a ramassé 15 oursins.

Elle les regroupe par 3.

Elle compose  groupes d'oursins.

b



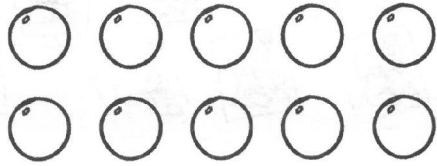
Louise dispose de 18 morceaux  
de viande pour faire des brochettes.

Elle en met 3 par brochette.

Elle fait  brochettes.

# Problèmes de division

1




2 fillettes partagent entre elles 10 perles en nombre égal.

Combien chaque fillette aura-t-elle de perles ?

Chaque fille aura  perles.

2




4 enfants partagent 12 biscuits entre eux de manière égale.

Combien chaque enfant aura-t-il de biscuits ?

Chaque enfant aura  biscuits.



3



Divisez 12 cartes en 3 groupes égaux.  
Combien y a-t-il de cartes dans chaque groupe ?

Il y a  cartes dans chaque groupe.

4



Manon a fait 20 macarons.  
Elle veut en mettre 4 par boîte.  
De combien de boîtes a-t-elle besoin ?

Elle a besoin de  boîtes.