

Grouper pour compter

1) Complète les phrases


a



Les bananes sont également réparties en groupes.

Il y a bananes dans chaque groupe.

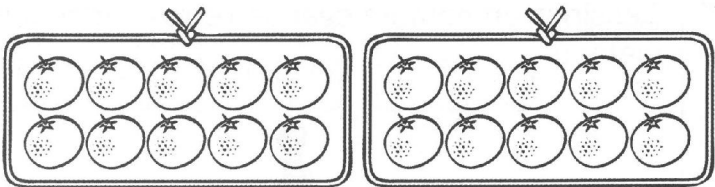
b



Les poires sont également réparties en groupes.

Il y a poires dans chaque groupe.

c



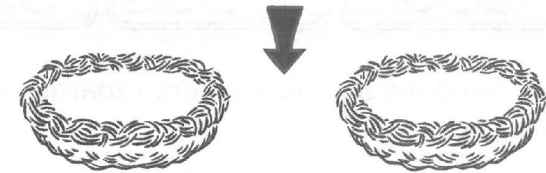
Les clémentines sont également réparties en groupes.

Il y a clémentines dans chaque groupe.

2) Dessine puis complète les phrases

a

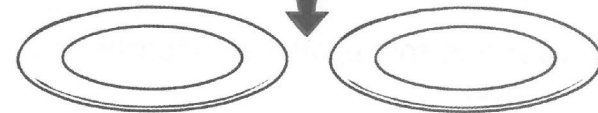
Dessine un nombre égal d'œufs dans chaque nid.



Il y a œufs dans chaque nid.

b

Dessine un nombre égal de gâteaux sur chaque plat.



Il y a gâteaux sur chaque plat.

c

Dessine un nombre égal de verres sur chaque plateau.

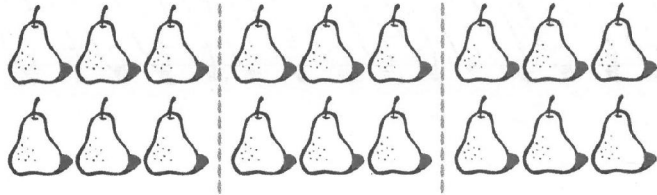


Il y a verres sur chaque plateau.

3) Complète les phrases

a


Répartis 18 poires en 3 groupes égaux.



Il y a poires dans chaque groupe.

b

Répartis 14 biscuits en 2 groupes égaux.



Il y a biscuits par groupe.

c

Répartis 12 crayons en 4 groupes égaux.



Il y a crayons par groupe.

d


Répartis 16 crayons en 2 groupes égaux.



Il y a crayons par groupe.

e


Répartis 12 fleurs en 3 groupes égaux.



Il y a fleurs par groupe.

f

Répartis 15 poissons en 3 groupes égaux.



Il y a poissons par groupe.