

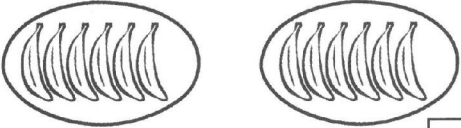

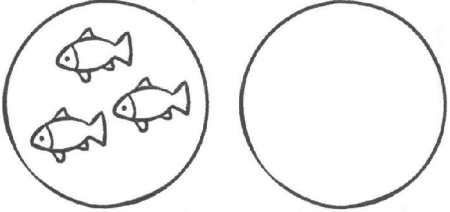
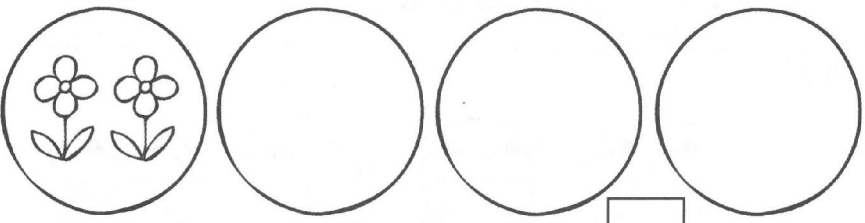




# Compter par groupes

1) Complète

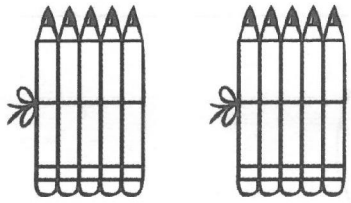
 $2 + 2 + 2 = \square$ 3 groupes de $\square = \square$
 $3 + 3 + 3 + 3 = \square$ 4 groupes de $\square = \square$
 $6 + 6 = \square$ 2 groupes de $\square = \square$
 $4 + 4 + 4 = \square$ 3 groupes de $\square = \square$

2) Complète les dessins et écris les réponses

 2 groupes de 3 = $\square$
 4 groupes de 2 = $\square$
 3 groupes de 5 = $\square$
 2 groupes de 4 = $\square$

3) Complète les phrases


a



Il y a  crayons dans chaque groupe.

Il y a  crayons en tout.

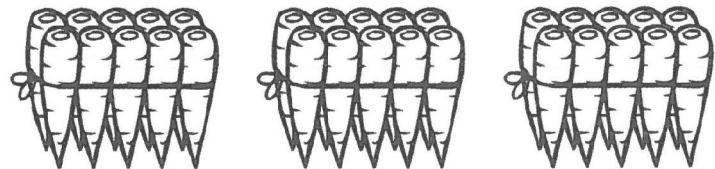
b



Il y a  gâteaux dans chaque groupe.

Il y a  gâteaux en tout.

c



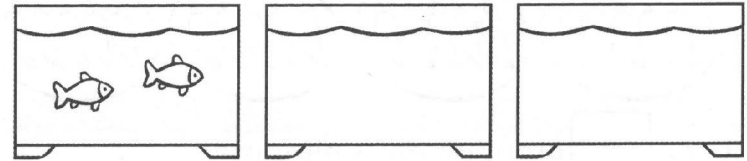
Il y a  carottes dans chaque groupe.

Il y a  carottes en tout.

4) Complète les dessins puis les phrases

a

Il y a 2 poissons dans chaque aquarium.



Il y a  poissons en tout.

b


Il y a 3 pommes dans chaque coupe.



Il y a  pommes en tout.

c

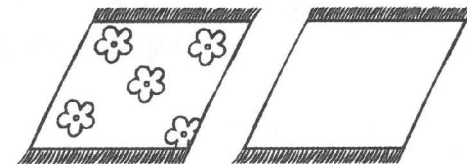
Il y a 4 boutons sur chaque robe.



Il y a  boutons en tout.

d

Il y a 5 fleurs tissées sur chaque tapis.



Il y a  fleurs en tout.