





① Colorie de la même couleur les horloges qui indiquent la même heure.



08:30







10:15

03:00

06:40

04:45

11:05



14:15

07:10




03:50

09:20

05:55

22:25

② Écris l'heure du matin et de l'après-midi affichée par ces horloges.



..... :

..... :

..... :

..... :

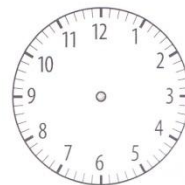
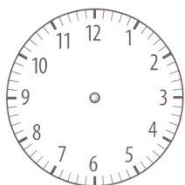

..... :

..... :

..... :

..... :

③ Dessine les aiguilles pour indiquer l'heure demandée.



11:20

03:50



20:30

17:15




LES MATHS DANS LA VIE

⑤ Ta journée de classe est organisée selon des heures. **Colorie** de la même couleur l'évènement et l'heure à laquelle il a lieu. C'est peut-être un peu différent de ce qui se fait dans ton école !

Le début de la classe
le matin



Le début de la cantine



Le début de la classe
l'après-midi

La fin de la classe le soir

La récréation du matin

DÉFI

⑥ Associe les heures du matin à celles de l'après-midi pour faire apparaître un mot secret.

08:30

1

23:30

N

03:00

2

01:30

4

13:30

O

19:00

R

07:00

3

05:00

6

20:30

C

11:30

5

17:00

O

15:00

H

1	2	3	4	5	6
---	---	---	---	---	---

Le mot secret est :

--	--	--	--	--	--

