

Correction des exercices du Jeudi 11 juin

□ Grammaire

1) la pluie – une casserole – des petits lapins – le karaté – l'éléphant – une longue lettre – mes meilleurs amis – la course

2) Ce marchand vend des fruits et des légumes.

X

x

x

Elle prépare son voyage.

x

Cet oiseau a des plumes magnifiques.

X

x

Ils arriveront dans une minute.

x

Les déménageurs emportent le grand piano.

X

x

Dans une sombre forêt, un jeune homme marche.

X

x

Cécile monte un ravissant poney roux.

X

☐ Lecture



Rallye lecture / 1

MINI SYROS Polar

Qui a démonté la tour Eiffel ?

Claudine Aubrun

Nom Classe

Qu'as-tu pensé de ce livre ? Entoure ton choix.

J'ai adoré J'ai aimé Je n'ai pas beaucoup aimé J'ai détesté Je n'ai pas compris

Cette histoire t'a-t-elle donné envie d'en lire d'autres ? OUI NON

/ 4

1. Que sait-on sur les héros de l'histoire ? Réponds aux questions.

Comment s'appelle le garçon qui raconte l'histoire ? Nino

Qui arrive chez lui au début de l'histoire ? sa cousine Rosalie

D'où vient-elle ? du Québec / du Canada

Quel âge a-t-elle ? 22 ans

/ 4

2. Remets dans l'ordre ces épisodes de l'histoire en les numérotant de 1 à 4.

Nino apprend qu'une bijouterie a été cambriolée près de la tour Eiffel. 2

Rosalie se fait bousculer par un homme en faisant la queue pour la tour Eiffel. 1

Nino demande au gardien d'arrêter l'homme. 4

Rosalie et Nino retrouvent l'homme dans les escaliers de la tour Eiffel. 3

/ 2

3. Réponds aux questions en entourant la bonne réponse.

À quel gang appartenait l'homme qui a bousculé Nino et Rosalie ?

le gang des fausses barbes / le gang des faux cheveux / le gang des fausses moustaches

Qu'avait-il volé ?

une montre

un diamant

un flacon de parfum

une bague

L'objet volé était caché dans la tour Eiffel. Où exactement ?

sous un rivet dévissé

sous une marche

dans la poche d'un gardien

Quand Nino trouve la cachette, l'objet volé y est-il toujours ?

OUI

NON

Total : / 10

□ Calcul

$$3\ 652 + 1\ 895 + 56 = 5\ 603$$

$$2\ 894 - 907 = 1\ 987$$

$$4\ 000 - 1\ 982 = 2\ 018$$

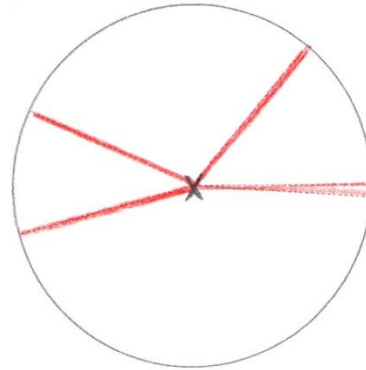
□ Géométrie

CONNAÎTRE LE VOCABULAIRE DU CERCLE

① Observe ce cercle et **réponds** aux questions.

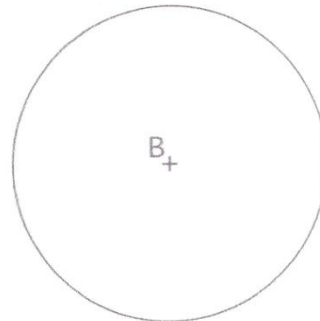
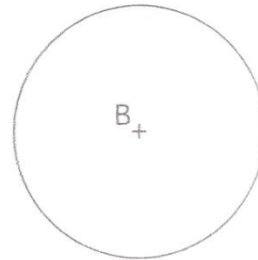
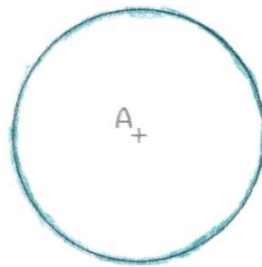
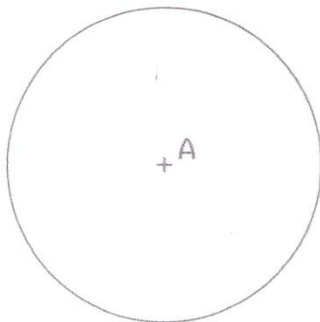
- ① Trace une croix sur le centre.
- ② Repasse les rayons en rouge.
- ③ Combien les rayons mesurent-ils ?

Les rayons mesurent 2 cm 8 mm.



② **Colorie** le cercle qui correspond à la définition.

Le cercle a un centre nommé A,
son rayon est de 2 cm.



LES MATHS DANS LA VIE

⑤ Timéo s'amuse à faire des bulles dans son jardin.
Aide-le en traçant d'autres bulles avec ton compas.
Trace 3 bulles de différentes tailles.

