
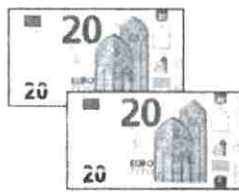
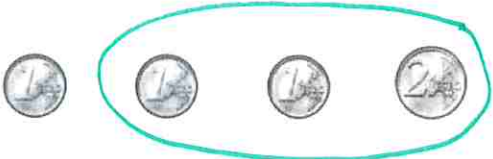


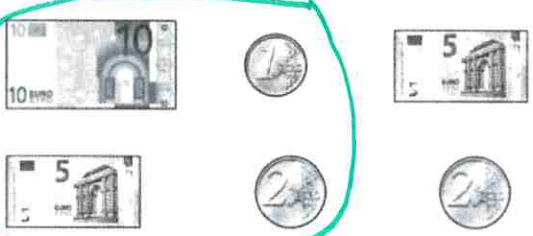
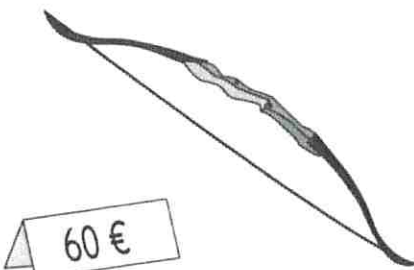

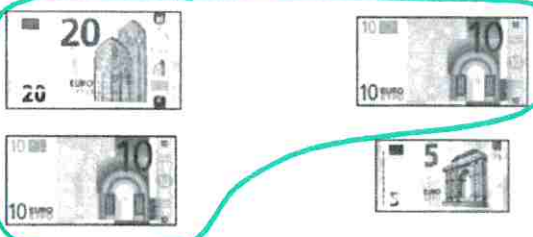

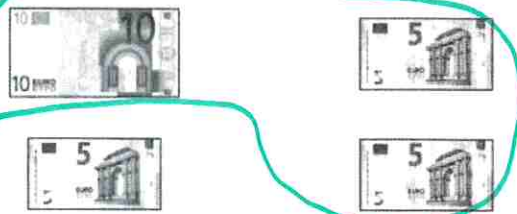


| | | |
|--|---|--|
| <p>Théo achète</p>  <p>8 €</p> | <p>Il donne</p>  | <p>Entoure la pièce que le marchand lui rend.</p>  |
|--|---|--|

| | | |
|--|---|---|
| <p>Léa achète</p>  <p>36 €</p> | <p>Elle donne</p>  | <p>Entoure les pièces que le marchand lui rend.</p>  |
|--|---|---|

| | | |
|--|---|--|
| <p>Karim achète</p>  <p>32 €</p> | <p>Il donne</p>  | <p>Entoure les pièces et les billets que le marchand lui rend.</p>  |
|--|---|--|

| | | |
|---|---|--|
| <p>Sornah achète</p>  <p>60 €</p> | <p>Elle donne</p>  | <p>Entoure les billets que le marchand lui rend.</p>  |
|---|---|--|

| | | |
|--|---|--|
| <p>Djamel achète</p>  <p>180 €</p> | <p>Il donne</p>  | <p>Entoure les billets que le marchand lui rend.</p>  |
|--|---|--|

Fiche différenciation n° 38



Unité 8 • Séance 9

► Cahier p. 45 Exercices 2 et 3 et p. 47 Exercice 4

Nom : _____ Date : _____

Lire l'heure

2 Entoure les étiquettes qui indiquent le même horaire que l'horloge.



14 : 30

4 heures et demie

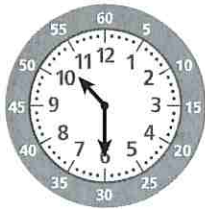
5 : 30

4 : 30

6 heures

16 : 30

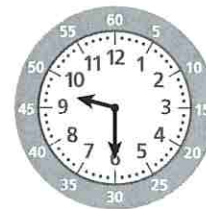
3 C'est le matin. Complète les horloges à affichage.



10 : 30




8 : 00




9 : 30


4 C'est l'après-midi ou le soir. Complète les horloges à affichage.



14 : 00



20 : 00



18 : 00