

Aujourd'hui, mardi 28 avril

➤ français

✓ lecture : c'est dans « questionner le monde »

✓ écriture : la majuscule O

Imprime ou recopie la fiche et entraîne-toi à écrire cette lettre facile !

Tu peux inventer une phrase supplémentaire dans l'exercice final, en mettant les majuscules au bon endroit.

✓ orthographe : orth 25

Aujourd'hui, tu apprends les mots jaunes et tu fais le petit exercice en annexe avec la lettre y.

✓ conjugaison : faire et dire au présent

Revois la conjugaison des verbes (tu dois savoir la réciter) puis fais les derniers exercices page 85.

Tu trouveras la correction des exercices 7 et 8.

Pour le dernier exercice, tu peux m'envoyer une photo de ton travail pour que je te corrige.

➤ mathématiques :

✓ calcul mental : la table à l'envers

Revois la table de 3 si tu en as besoin.

Écris les calculs qui correspondent aux résultats de la table de 3, sous la forme : 1 x 3 par exemple.

(tableau en annexe)

✓ géométrie : le triangle rectangle

Parmi les triangles, il en existe un particulier, c'est le triangle rectangle... Bizarre comme nom ! Essaie d'imaginer ce que cela peut bien vouloir dire...

Cette vidéo devrait t'éclairer :

<https://lesfondamentaux.reseau-canope.fr/video/reconnaitre-un-triangle-rectangle.html>

Mais comment le décrire ? Il nous faut encore quelques informations :

<https://lesfondamentaux.reseau-canope.fr/discipline/mathematiques/geometrie-du-plan/triangle-rectangle/decrire-un-triangle-rectangle.html>

A toi de jouer maintenant ! Prend une équerre, ou ton gabarit d'angle droit, car un triangle rectangle contient un angle droit ! (rappel : continuité pédagogique n°6)

Cherche tous les triangles rectangles dans la fiche.

✓ problèmes : addition ou multiplication ?

Recopie le problème et résous-le. Choisis bien ton calcul !

Julie voit un manège composé de 12 chevaux de bois jaunes et 17 chevaux de bois bleus.

Combien de chevaux de bois y a-t-il sur ce manège ?

➤ *questionner le monde : les temps modernes*

Poursuivons notre exploration du temps... As-tu reconnu les deux personnages du loup hier ?

Louonard est bien sûr Léonard de Vinci, et le roi Loup XIV n'est autre que le roi Louis XIV !

Voici quelques informations sur eux dans le documentaire en annexe.

Si tu aimes les petites vidéos, voici celle sur Léonard de Vinci :

<https://www.youtube.com/watch?v=iLi7dFlzsrl>

et sur Louis XIV :

<https://www.youtube.com/watch?v=JqNXR73Du48>

➤ *anglais : virelangues*

Suis le programme du mardi :

<http://blogs16.ac-poitiers.fr/lve/files/2020/03/Planning-hebdomadaire-anglais-CE1S3.pdf>

➤ *arts plastiques : ta coronamaison*

Pense à avancer ta maison dès que tu as un moment !



Un ovale commencé en haut et dont la finale passe sous l'attaque sans le fermer.

1 Observe la lettre en noir.

2 Repasse vivement au crayon plusieurs fois de suite les lettres tracées en bleu.



3 Recopie la lettre.

O
O

4 Recopie les phrases sans oublier les majuscules.

Où as-tu mis le livre d'Olivier ?

Où auront lieu les prochains jeux Olympiques ?

5 Recopie en mettant une majuscule quand il le faut.

on dirait qu'il pleut sur l'océan.

ophélie habite à orange.

La table de multiplication par 3 à l'envers


6, c'est ?	3, c'est ?	9, c'est ?	24, c'est ?
18, c'est ?	0, c'est ?	12, c'est ?	21, c'est ?
15, c'est ?	27, c'est ?	15, c'est ?	9, c'est ?

Orthographe

Complète les mots avec uy, ay ou oy




un éc...er



un r...on



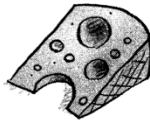
un n...au



les v...elles




des cr...ons



du gr...ère

Utilise un gabarit d'angle droit pour reconnaître les triangles rectangles.
Marque leur angle droit en rouge.



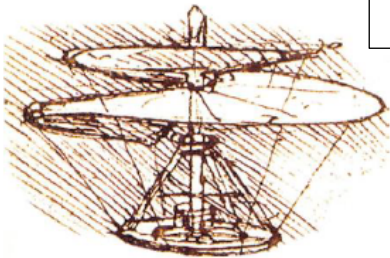
Léonard de Vinci



Peintre, sculpteur, architecte et savant, il est né en 1452 en Italie et mort en 1519. Son œuvre la plus célèbre est la Joconde grâce à son regard et son sourire mystérieux... Il a aussi inventé des machines volantes et de nombreuses machines de guerre.



La Joconde



croquis d'hélicoptère

Louis XIV

1 En 1648, Il devient roi à l'âge de 5 ans au décès son père.

Sa maman exercera le pouvoir jusqu'à ce qu'il soit en âge de gouverner. En 1661, à la mort de son principal ministre Mazarin, Louis XIV commence à son « métier » de roi. Il décide de gouverner sans premier ministre. C'est le début de la monarchie absolue de droit divin. En effet Louis XIV considère qu'il a été élu par Dieu. Louis XIV est surnommé le roi soleil.



Louis XIV à 5 ans



Louis XIV lors de son sacre

2 A Versailles, il construit un immense et luxueux château. Il dépensera beaucoup d'argent pour embellir les jardins, rénover les appartements, construire des pavillons pour y loger sa cour.

En 1682, Louis XIV s'installe définitivement au château de Versailles avec sa cour. Il y donne de magnifiques fêtes.

Correction de l'écriture

On dirait qu'il pleut sur l'océan.

Ophélie habite à Orange.

Correction de l'orthographe

un écuyer - un rayon - un noyau - les voyelles - des crayons - du gruyère

Correction de la conjugaison

④ Complète les phrases en conjuguant le verbe écrit entre parenthèses.

Nous *disons* (dire) des bêtises.

Les animaux *font* (faire) du bruit dans la nuit.

Je *dis* (dire) aux élèves de se taire.

Mes parents *font* (faire) une croisière en Corse.

Vous *faites* (faire) du sport tous les jours !

⑤ Récris les phrases en changeant de sujet.

Noa fait la sieste.

Juliette et Noa font la sieste.

Nous disons bonjour à tout le monde.

Vous dites bonjour à tout le monde.

Vous faites un gâteau au chocolat.

Ils font un gâteau au chocolat.

Mon père et moi faisons cuire les saucisses au barbecue.

Je fais cuire les saucisses au barbecue.

Correction du problème

$$12 + 17 = 29$$

Il y a 29 chevaux de bois sur ce manège.

Ici on a bien 2 séries différentes (12 et 19), on ne peut pas multiplier.

Correction de la géométrie

Utilise un gabarit d'angle droit pour reconnaître les triangles rectangles.
Marque leur angle droit en rouge.

