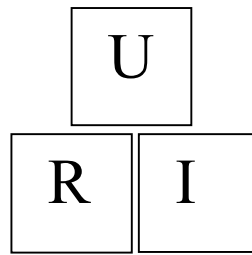


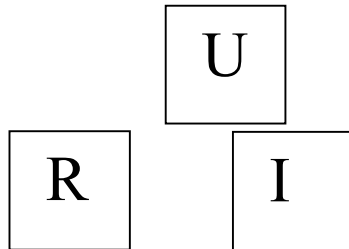
Loi d'ohm connue : $U = R \times I$
Comment trouver R ? Comment trouver I ?

Trois carrés (U, R, I) sur le bureau de l'élève : à poser d'une certaine façon.



Trouver R ?

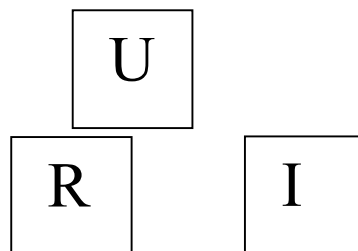
Décaler un peu le carré R



Réponse : $R = \frac{U}{I}$

Trouver I ?

Décaler un peu le carré I



Réponse : $\frac{U}{R} = I$ ce qui fait $I = \frac{U}{R}$